



YAYASAN PENDIDIKAN NURUL FALLAH CIKALONGKULON  
**SMP NURUL FALLAH**

Kampung Cijati, Desa Mekarmulya, Kec. Cikalongkulon, Kabupaten Cianjur 43291  
Telp./Fax. (0263) 2311655 – Email : nurulpalahcikalongkulon@gmail.com








UJIAN SEKOLAH BERSTANDAR NASIONAL (UASBN)  
TAHUN PELAJARAN 2024/2025

Mata Pelajaran	: SBDP	Hari/Tanggal	: Rabu, 7 Mei 2025
Kurikulum	: K – 2013	Waktu	: 120 Menit

**PETUNJUK UMUM**

1. Bacalah basmalah dan berdoa sebelum anda mengerjakan soal
2. Tulislah nama dan nomor ujian anda pada lembar jawaban yang disediakan
3. Periksa dan bacalah soal-soal dengan teliti sebelum menjawab
4. Dahulukan menjawab soal-soal yang anda anggap mudah

**SELAMAT BEKERJA, SEMOGA SUKSES**

1. 
- Berdasarkan gambar diatas manakah yang merupakan hasil karya seni dua dimensi, ...
- A. a      B. b      C. c      D. d
2. Komposisi dalam menggambar diantaranya adalah komposisi asimetris yang artinya adalah...
- A. Menunjukkan bahwa objek di bagian kanan tidak sama atau tidak mirip dengan objek di kiri bidang gambar tetapi terkesan menunjukkan keseimbangan
- B. menunjukkan bahwa obyek di bagian kanan dan obyek dibagian kiri mirip dan menunjukkan kesan keseimbangan
- C. Menunjukkan bahwa obyek dibagian kanan dan obyek dibagian kiri sama – sama mempunyai tambahan gambar yang sama
- D. Menunjukkan bahwa obyek yang kanan dan obyek yang kiri memiliki sudut dan perbedaan yang sama dan terkesan tidak seimbang
3. Salah satu alat dalam menggambar adalah pensil, dan pensil dibedakan dalam beberapa jenis. Jenis pensil apakah yang memiliki sifat keras dan cocok digunakan untuk membuat garis yang tipis
- A. Pensil warna      C. Pensil B
- B. Crayon      D. Pensil H
4. Gambar dibawah ini manakah yang merupakan ragam hias figuratif,...
- A.       B.       C.       D. 

5. 1. Komposisi
2. Proporsi
3. Garis
4. Tekstur
5. Keseimbangan

Dari data diatas manakah yang merupakan prinsip – prinsip menggambar model...

- A. 1, 2, 3                      B. 1, 2, 4                      C. 1, 2, 5                      D. 2, 3, 5

6. Dibawah ini manakah yang bukan merupakan macam – macam gambar ilustrasi,...

- A. Grafis                      B. Komik                      C. Karya sastra                      D. Karikatur

7. Gambar disamping merupakan gambar vignette, apakah fungsi dari gambar tersebut.....



- A. Menunjukkan kesimpulan cerita
- B. Menerangkan peristiwa yang terjadi
- C. Penguatan isi narasi
- D. Pengisi bidang kosong pada narasi

8. Dari gambar poster dibawah ini manakah yang merupakan poster yang bertemakan tentang lingkungan hidup,...

- A.  B.  C.  D. 

9. Perhatikan data-data berikut ini

1. Bersifat persuasif.
2. Mengutamakan unsur kata-kata
3. Memadukan unsur gambar dengan kata, gerak, dan suara.
4. Mengutamakan kekuatan gambar dan kata-kata.
5. Dipajang di tempat umum.
6. Disampaikan melalui media massa.

Berdasarkan data di atas, yang merupakan unsur-unsur sebuah poster adalah ...

- A. 1, 2, 3                      B. 1, 2, 5                      C. 1, 3, 5                      D. 1, 4, 5

10. Untuk menggambar komik dibutuhkan beberapa syarat antara lain kemampuan dalam menggambar dan menyusun kata-kata. Selain kemampuan tersebut, ada beberapa langkah yang harus dilalui dalam menggambar komik, urutan langkahnya adalah ....

- A. Menentukan topik dan tujuan, membuat kalimat singkat dan mudah diingat, menggunakan gambar, menggunakan media yang tepat
- B. Membuat kalimat singkat dan mudah diingat, menentukan topik dan tujuan, menggunakan gambar, menggunakan media yang tepat
- C. Menentukan topik dan tujuan, menggunakan gambar, membuat kalimat singkat dan mudah diingat, menggunakan media yang tepat

D. Membuat kalimat singkat dan mudah diingat, menggunakan gambar, menentukan topik dan tujuan, menggunakan media yang tepat.

11.



Lukisan disamping adalah lukisan karya Pablo Picasso yang berasal dari Spanyol, Aliran yang digunakan dalam lukisan tersebut adalah....

- A. Naturalisme
- B. Kubisme
- C. Surealisme
- D. Realisme

12. Salah satu tema dalam melukis adalah manusia dengan alam sekitar, obyek yang biasanya digunakan yaitu....

- A. Batu kali, botol, candi, sungai, petani
- B. Sungai, candi, pohon kelapa, burung bangau
- C. Batu kali, candi, tetangga, dokter
- D. Sungai, candi, burung bangau, guru

13. 1. Penggambarannya alami atau sesuai dengan keadaan alam  
2. Melukiskan segala sesuatu dengan alam nyata  
3. Perbandingan perspektif, tekstur ataupun warna serta gelap terang dengan seteliti mungkin

Dari data diatas merupakan ciri – ciri dari,..

- A. Aliran romantisme
- B. Aliran realisme
- C. Aliran naturalisme
- D. Aliran surealisme

14. Dalam pembuatan patung disebut teknik apakah yang dalam pembuatannya membentuk benda dengan mengurangi dan menambah bahan, dengan menggunakan alat yang disebut sudip.....

- A. Teknik Butsir
- B. Teknik Cetak
- C. Teknik Las
- D. Teknik Cor

15. a.



b.



c.



d.



Dari gambar patung diatas manakah yang merupakan patung monumen...

- A. a
- B. b
- C. c
- D. d

16. 1. Kerangka screen, bingkai yang terbuat dari kayu atau alumunium  
2. Meja cetak

3. Pelapis, untuk menyerap tinta yang berlebihan

4. Rakel

5. Rak jemuran

6. Emulsi

7. Tinta (pewarna)

Dari data diatas merupakan alat dan bahan dalam pembuatan....

- A. Cetak tinggi
- B. Cetak dalam
- C. Cetak saring
- D. Cetak datar



17. Dari gambar dibawah ini manakah yang merupakan contoh dari cetak dalam....



18. Dalam kegiatan pameran disebut apakah tempat untuk memajang karya seni dua dimensi.....

A. Etalase

B. Sketsel

C. Lemari

D. Panggung

19. Tahapan – tahapan dalam pelaksanaan pameran setelah merencanakan kegiatan pameran adalah,..

A. Mempersiapkan, melaksanakan, mengolah, mengevaluasi

B. Mempersiapkan, mengevaluasi, melaksanakan, mengolah

C. Mempersiapkan, melaksanakan, mengolah, mengevaluasi

D. Mempersiapkan, mengolah, melaksanakan, mengevaluasi

20. Kegiatan pameran dalam gambar disamping merupakan jenis pameran....



A. Pameran homogen

B. Pameran heterogen

C. Pameran tunggal

D. Pameran kelompok

21. Untuk dapat menyanyi Unisono dengan baik diperlukan beberapa teknik, seperti teknik pernafasan, phrasering, intonasi dan artikulasi serta sikap badan yang mendukung terhadap produksi suara yang dihasilkan. Unisono adalah kegiatan menyanyi yang maknanya adalah:....

A. Menyanyi secara bersama- sama dalam satu suara

B. Menyanyi secara bersama-sama dalam dua suara

C. Menyanyi secara bersama-sama dalam banyak suara

D. Menyanyi secara bersama-sama dalam paduan suara

22. Kejelasan kata-kata yang diucapkan dalam bernyanyi menjadi satu hal yang sangat penting agar pesan dan isi dari nyanyian bisa sampai kepada pendengarnya. Latihan pengucapan kata yang jelas dalam menyanyi berhubungan dengan ...

A. Intonasi

B. Artikulasi

C. Phrasering

d. Ekspresi

23. Bermain musik secara bersama-sama dengan menggunakan alat musik yang tidak berbeda merupakan contoh dari permainan musik ansambel sejenis. Di bawah ini adalah contoh alat musik untuk permainan ansambel sejenis, yaitu...

A. Gitar 1, gitar 2, dan rekorder

C. Rekorder 1, rekorder 2, dan rekorder 3

B. Pianika 1, pianika 2, dan rekorder

D. Gitar, pianika, dan rekorder

24. Dibawah ini adalah macam-macam kelompok bermain musik:




31. Paduan suara yang lengkap didalamnya terdapat kolaborasi antara suara laki-laki dan perempuan yang meliputi suara sopran, tenor, alto, dan bas. Urutan suara laki-laki yang benar dari suara yang paling tinggi ke rendah adalah...

- A. Sopran, mezo sopran, alto
- B. Tenor, bariton, bas
- C. Bas, bariton, tenor
- D. Alto, mezo sopran, sopran

32. Pernafasan ideal yang dianjurkan dalam bernyanyi adalah pernafasan diafragma, karena...

- A. Banyak dilakukan penyanyi untuk menghasilkan kualitas suara yang baik
- B. Pernafasan diafragma sangat sulit dalam menjalani proses latihannya
- C. Pernafasan diafragma letaknya berada pada posisi antara rongga dada dan perut
- D. Pernafasan diafragma akan menghasilkan suara yang keras dan kuat

33.



Perhatikan gambar di atas, ornamen musik yang bertanda " tr " disebut tanda....

- A. Kadenza
- B. Trill
- C. Appoggiatura
- D. Morden

34. Untuk mempertahankan nada panjang yang dinyanyikan supaya nadanya tidak mengalami penurunan, dilakukan dengan cara mengatur getaran atau gelombang vokal lembut yang mendalam dan selain itu juga untuk memperindah suara agar enak didengar, getaran tersebut dinamakan.....

- A. Falceto
- B. Echo.
- C. Tremolo
- D. Vibrato

35. Dalam penutup atau akhir dari sebuah lagu terdapat dua macam simbol atau tanda, yaitu tanda **Coda** dan tanda **Outro**. Coda adalah penutup lagu yang diakhiri dengan suara vokal, sedangkan Outro adalah.....

- A. Penutup lagu yang diakhiri dengan suara musik
- B. Penutup lagu yang diakhiri dengan suara nyanyian
- C. Pembuka lagu yang diawali dengan suara vokal
- D. Pembuka lagu yang diawali dengan suara musik

36. Perhatikan pernyataan di bawah ini.

Melodinya mudah dinyanyikan, gerak melodi mudah dipadukan dengan gaya irama lain, gerak harmoninya tidak terlalu sulit, liriknya bertema gaya hidup sehari-hari yang sedang populer di masyarakat, dan digemari oleh banyak orang, pernyataan tersebut merupakan ciri-ciri dari .....

- A. Musik tradisional
- B. Musik Populer
- C. Musik Etnik
- D. Musik Daerah

37. | C . . . | Dm . . . | F . . . | G . . . | ➡ 1

| C . . . | F . . . | G . . . | C . . . | ➡ 2

| F . . . | G . . . | F . . . | C . . . | ➡ 3



Dari potongan lagu di atas, sebaiknya intro diletakan pada nomor.....

- A. 1                      B. 2                      C. 3                      D. 4

38. Genre musik populer bermacam-macam jenis, diantaranya jaz, blues, rhythm and blues, punk, rock, metal, ska, reggae, dan lain-lain. Genre musik populer dengan gaya bernyanyi seperti orang sedang berbicara secara cepat dinamakan....

- A. Rock                      B. Rap                      C. Metal                      D. Balada

39. Perhatikan pernyataan dibawah ini.

- |  |                      |
|--|----------------------|
| 1. Tempat pertunjukan Indoor (dalam ruangan)     | 5. Panggung kecil    |
| 2. Tempat pertunjukan Outdoor (di dalam ruangan) | 6. Panggung besar    |
| 3. Penonton terbatas                             | 7. Tata suara lembut |
| 4. Penonton bebas                                | 8. Tata suara keras  |

Biasanya pertunjukan musik populer lebih dinamis dan atraktif daripada pertunjukan musik klasik sehingga musiknya lebih digemari banyak orang, hal tersebut tidak terlepas dari dukungan teknis yang sesuai dengan nomor.....

- A. 1, 2, 3, 4.                      B. 1, 3, 5, 7                      C. 2, 4, 6, 8                      D. 1, 4, 5, 7

40. Menyanyi tanpa diiringi musik dinamakan **acapella**, sedangkan bermain musik tanpa vokal atau tanpa nyanyian dinamakan ....

- A. Instrumentalia                      B. Instrumen musik                      C. Melodis                      D. Sentimentil

*Berlombalah dalam Kebaikan*