



LKPD

Ilmu Pengetahuan Alam


Tema: Sistem Pencernaan Manusia

Nama kelompok: _____

Kelas: _____

Tanggal: _____

KELOMPOK 2



apa yang akan dipelajari dalam materi ini?

Tujuan Pembelajaran:

1. Peserta didik mampu mengidentifikasi organ-organ sistem pencernaan beserta fungsinya dengan baik dan benar.
2. Peserta didik Menjelaskan struktur dan fungsi organ-organ pada sistem pencernaan manusia.
3. Peserta didik mampu Menjelaskan jalannya makanan melalui saluran pencernaan dari mulut hingga anus.
4. Peserta didik mampu menjelaskan gangguan atau penyakit yang dapat terjadi pada sistem pencernaan.

MATERI POKOK

SISTEM PENCERNAAN PADA MANUSIA

ALOKASI WAKTU

2X45 MENIT

LANGKAH KERJA

1. Identifikasi Gambar Organ Pencernaan

- Perhatikan gambar organ tubuh manusia pada lembar kerja.
- Lengkapi dengan **menuliskan nama-nama organ pencernaan** pada tempat yang sesuai (misalnya: mulut, kerongkongan, lambung, usus halus, usus besar, anus).

2. Mengamati dan Mengisi Tabel Proses Pencernaan

- Amati setiap gambar yang ditampilkan di tabel.
- Isilah kolom "Nama Organ" dan "Proses Pencernaan" sesuai fungsi masing-masing organ (misalnya: di mulut terjadi pencernaan mekanik dan kimiawi).

3. Menjawab Pertanyaan Gangguan Pencernaan**

- Baca dan pahami setiap pertanyaan tentang gangguan sistem pencernaan.
- Jawablah berdasarkan pengetahuan atau materi yang sudah dipelajari, seperti:
- Contoh gangguan: maag, diare, sembelit.
- Penyebab: pola makan tidak sehat, infeksi, stres.
- Pencegahan: makan bergizi, cuci tangan, hindari makanan terlalu pedas.

4. Menyelesaikan Bagian "Tolong Aku..."

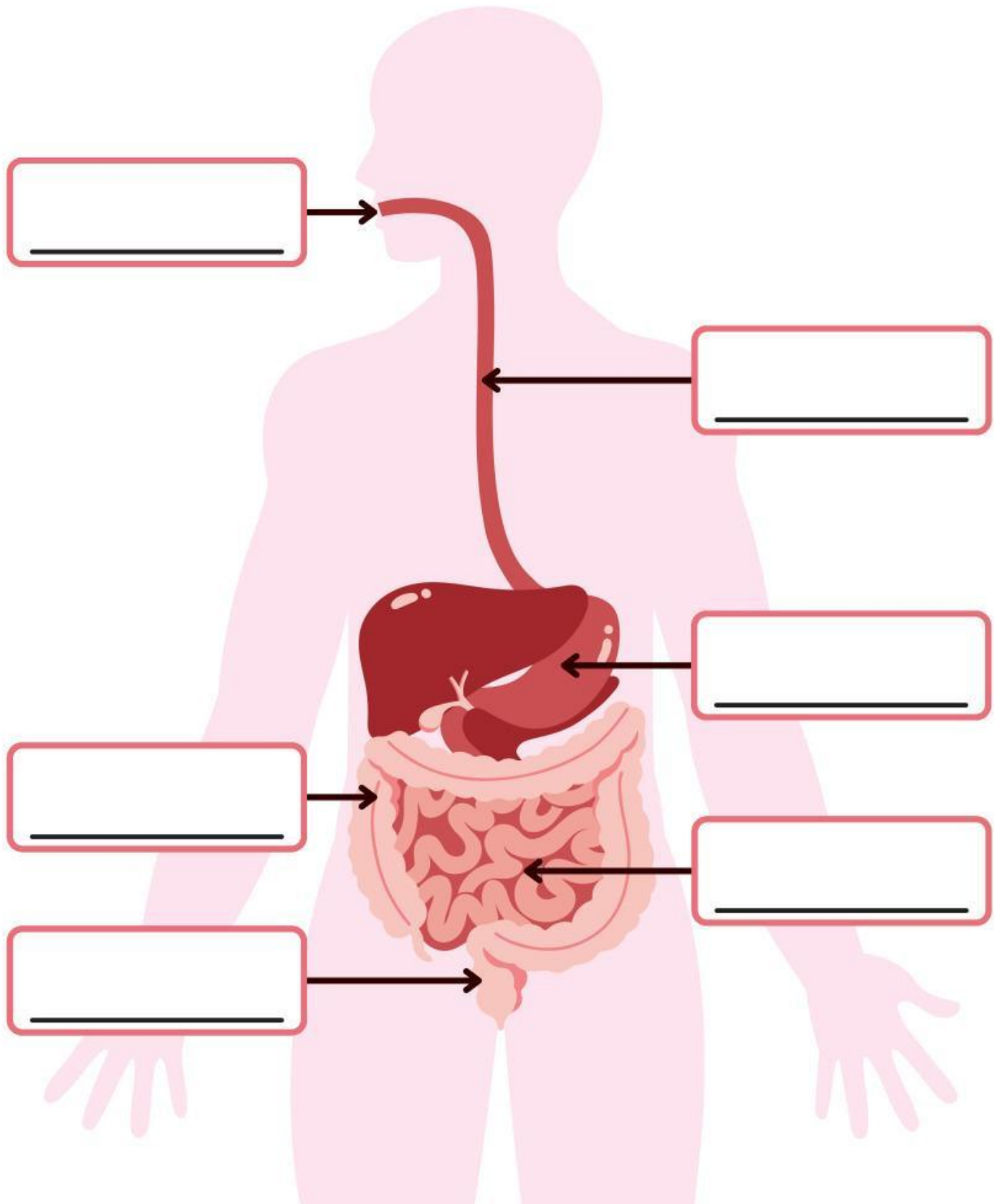
- Cermati konteks gambar atau kalimat di bagian ini.
- Jelaskan apa gangguan yang mungkin terjadi dan bagaimana cara mengatasinya berdasarkan gejala yang ditunjukkan.

5. Menulis Kesimpulan

- Tuliskan ringkasan dari pembelajaran tentang sistem pencernaan.






Organ Pencernaan Manusia

Lengkapi gambar dengan nama organ pencernaan yang sesuai.



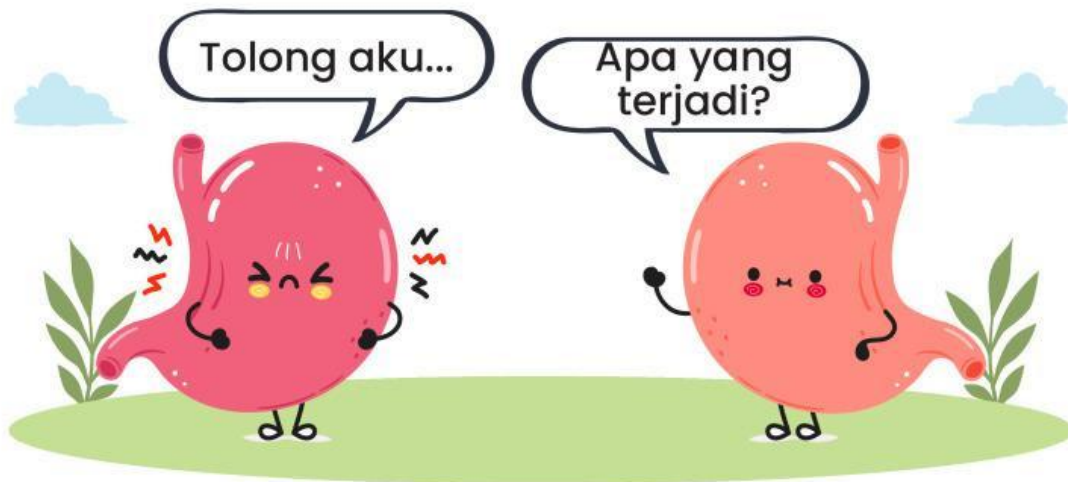
Proses Pencernaan

Perhatikan gambar, Tulislah nama organ dan proses pencernaan yang terjadi pada tabel di bawah ini.

No.	Gambar	Nama Organ	Proses Pencernaan
1.		_____	_____ _____ _____
2.		_____	_____ _____ _____
3.		_____	_____ _____ _____
4.		_____	_____ _____ _____
5.		_____	_____ _____ _____

Gangguan Organ Pencernaan

Jawablah pertanyaan di bawah ini.



Pertanyaan:

- Apa saja gangguan yang dapat terjadi pada sistem pencernaan manusia?

Jawab: _____

- Apa penyebab terjadinya gangguan pada sistem pencernaan?

Jawab: _____

- Bagaimana cara mencegah terjadinya gangguan pada sistem pencernaan?

Jawab: _____

Jawaban :

.....

.....

.....

.....

.....

.....

.....

.....

.....

.....

.....

.....

.....

.....

.....

.....

.....

.....

.....

.....

KESIMPULAN

.....

.....

.....

.....

.....

.....

.....

.....

.....

.....

.....

.....

.....

.....

.....

.....

.....

.....

.....

.....