







# Diagram Kue Tradisional

Lengkapilah kalimat sesuai dengan isi diagram!

Nama: \_\_\_\_\_

Kelas: \_\_\_\_\_

Tanggal: \_\_\_\_\_

Pastel	
Lemper	
Lapis	
Onde-Onde	
Pukis	
Putu Ayu	

1. Kue dengan jumlah yang paling sedikit adalah \_\_\_\_\_
2. Kue dengan jumlah paling banyak adalah \_\_\_\_\_
3. Kue yang memiliki jumlah yang sama adalah \_\_\_\_\_
4. Kue pukis berjumlah \_\_\_\_\_
5. Lemper lebih \_\_\_\_\_ daripada putu ayu.
6. Jumlah pukis \_\_\_\_\_ daripada pastel.
7. Jumlah seluruh kue ada \_\_\_\_\_
8. Kue lapis berjumlah \_\_\_\_\_