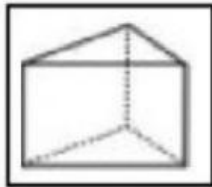
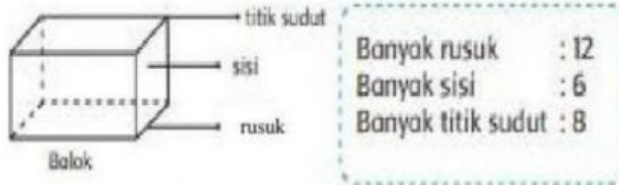


WORKSHEET
BANGUN RUANG

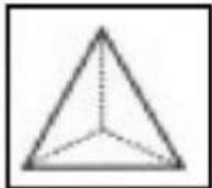
Nama :



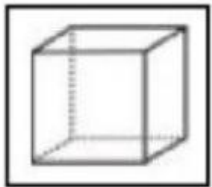
I. Perhatikan gambar di bawah dengan teliti!



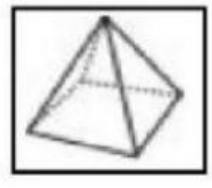
Banyak rusuk : 9
Banyak sisi : 5
Banyak titik sudut : 6



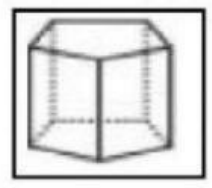
Banyak rusuk : 6
Banyak sisi : 4
Banyak titik sudut : 4



Banyak rusuk : 12
Banyak sisi : 6
Banyak titik sudut : 8

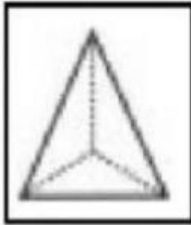


Banyak rusuk : 8
Banyak sisi : 5
Banyak titik sudut : 5

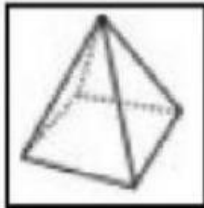


Banyak rusuk : 15
Banyak sisi : 7
Banyak titik sudut : 10

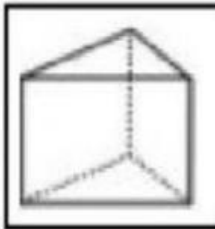
II. Jodohkan bangun ruang yang sesuai dengan banyak rusuk, sisi, dan titik sudut berikut!



Banyak rusuk	: 9
Banyak sisi	: 5
Banyak titik sudut	: 6



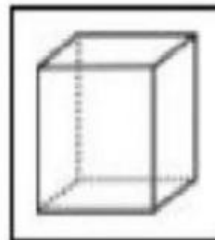
Banyak rusuk	: 6
Banyak sisi	: 4
Banyak titik sudut	: 4



Banyak rusuk	: 12
Banyak sisi	: 6
Banyak titik sudut	: 8



Banyak rusuk	: 8
Banyak sisi	: 5
Banyak titik sudut	: 5



Banyak rusuk	: 15
Banyak sisi	: 7
Banyak titik sudut	: 10


A. Berilah tanda () pada gambar-gambar yang termasuk **balok** !



B. Berilah tanda () pada gambar-gambar yang termasuk **kubus** !


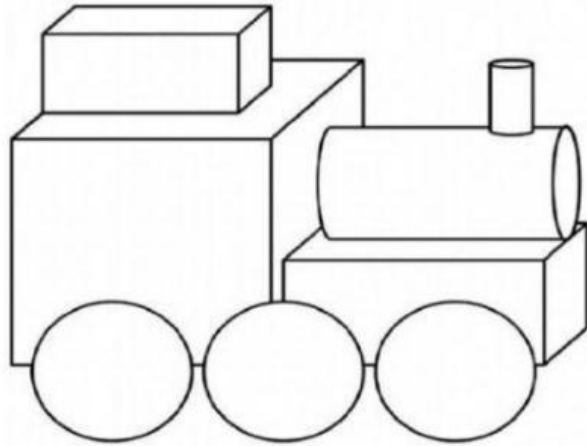


C. Pasangkan benda sesuai bentuknya!

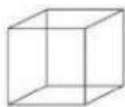


D. Perhatikan gambar di bawah ini!

Silahkan hitung ada berapa jumlah masing-masing bangun ruang!



Jumlahnya ada



Jumlahnya ada



Jumlahnya ada



Jumlahnya ada