


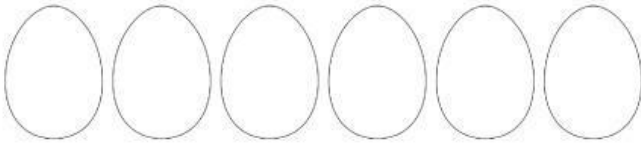


RESUELVE EL SIGUIENTE PROBLEMA DE SUMA

La gallina Pintadita puso **7** huevos en el corral



La siguiente semana puso **6** huevos.




¿Cuántos huevos ha puesto en total?

$$\boxed{} + \boxed{} = \boxed{}$$

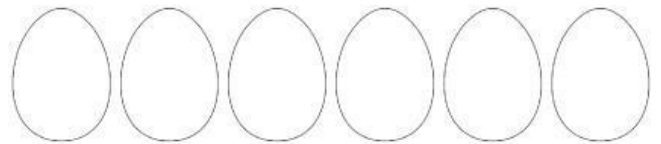


RESUELVE EL SIGUIENTE PROBLEMA DE SUMA

La gallina Pintadita puso **7** huevos en el corral



La siguiente semana puso **6** huevos.



¿Cuántos huevos ha puesto en total?

$$\boxed{} + \boxed{} = \boxed{}$$