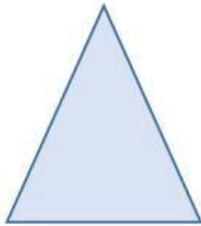


ALUNNO: _____


SCRIVI IN STAMPATO MAIUSCOLO SE TRATTASI DI POLIGONO CONCAVO O CONVESSO

CONCAVO: POLIGONO IN CUI ANCHE “UN” SOLO PROLUNGAMENTO DI UN SUO LATO SI TROVA ALL’INTERNO DELLA FIGURA


CONVESSO: POLIGONO IN CUI TUTTI I PROLUNGAMENTI DEI SUOI LATI SI TROVANO ALL’ESTERNO DELLA FIGURA














ALUNNO: _____

SCRIVI IN STAMPATO MAIUSCOLO SE TRATTASI DI POLIGONO CONCAVO O CONVESSO

CONCAVO: POLIGONO IN CUI ANCHE "UN" SOLO PROLUNGAMENTO DI UN SUO LATO SI TROVA ALL'INTERNO DELLA FIGURA

CONVESSO: POLIGONO IN CUI TUTTI I PROLUNGAMENTI DEI SUOI LATI SI TROVANO ALL'ESTERNO DELLA FIGURA



