


# EVALUASI

**Nama :** .....

**Kelas:** .....

**pindai barcode untuk mengerjakan soal !**


**1**



**Luas satuan persegi dari bangunan Hijau di samping yaitu....**

**Jawaban:**

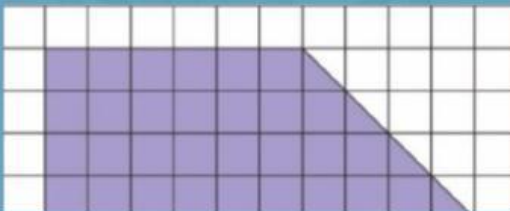
**2**



**Kalu membuat desain tangga untuk di kamar seperti pada gambar di samping. Berapakah luas satuan persegi dari desain tersebut....**

**Jawaban:**

**3**



**Berapakah Luas satuan persegi dari trapesium di samping yaitu....**

**Jawaban:**

**4**

**Satuan baku yang digunakan untuk mengukur luas adalah ...**

**Jawaban:**

**5**

**Luas dari persegi panjang dengan panjang 8 meter dan lebar 5 meter adalah ... m<sup>2</sup>.**

**Jawaban:**