



Bacalah kata dibawah ini

1. O- rang



2. O- beng



3. U- ang



4. U- dang




5. E- lang



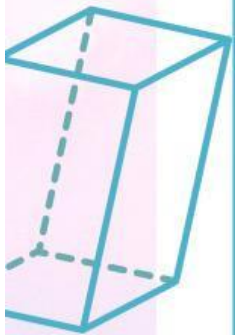
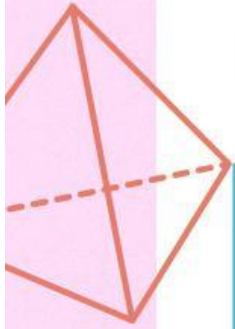


Tulislah nama gambar dibawah ini





Mari kita nonton cerita yuk...





Belajar Pengurangan dengan menuliskan nilainya
didalam kotak

$10 - 10 =$

$11 - 1 =$

$12 - 2 =$

$13 - 3 =$

$14 - 4 =$

$15 - 5 =$

$16 - 6 =$

$17 - 7 =$

