

Nama:

Kelas/No.Absen:

LKPD

KINEMATIKA

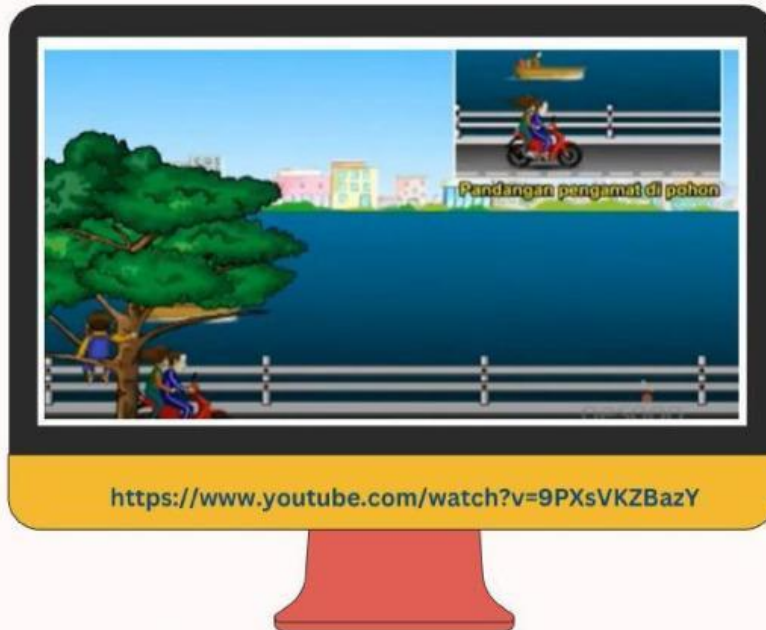
GERAK LURUS



Apersepsi

A. Pengertian Gerak

Amati video tentang pengertian gerak berikut ini



<https://www.youtube.com/watch?v=9PXsVKZBazY>

Uji PemahamanMu

1. Setelah mengamati video tersebut diatas, berilah centang pernyataan dibawah ini yang menurut kamu benar!

Perahu bergerak terhadap sepeda motor

Perahu bergerak terhadap anak diatas pohon

Sepeda motor diam terhadap perahu

Sepeda motor diam terhadap anak diatas pohon

Sepeda motor bergerak terhadap anak diatas pohon

2. Dari video yang telah kamu amati, apakah pengamat sekitar benda dapat mempengaruhi gerak benda?

Ya/Tidak

3. Buatlah kesimpulan dari apa yang kamu pahami tentang Gerak!

Orientasi Masalah

Amati video tentang gerak lurus berikut ini!



 **LIVEWORKSHEETS**



Setelah kamu mengamati video diatas jawablah, pertanyaan-peretanyaan berikut ini:

1. Bagaimana kecepatan pesawat saat lepas landas atau "take off"? **Tetap/Dipercepat/Diperlambat**
2. Bagaimana kecepatan pesawat pada saat mendarat atau "landing"? **Tetap/Dipercepat/Diperlambat**
3. Bagaimana kecepatan pesawat pada saat melayang diudara atau "cruising" pada ketinggian tertentu? **Tetap/Dipercepat/Diperlambat**
4. Bagaimana perbedaan kecepatan pesawat saat "take off", "landing" dan "cruising"? Jelaskan berdasarkan pemahamanMU!





Setelah kamu mengamati video diatas jawablah, pertanyaan-peretanyaan berikut ini:

1. Bagaimana kecepatan pesawat saat lepas landas atau "take off"? **Tetap/Dipercepat/Diperlambat**
2. Bagaimana kecepatan pesawat pada saat mendarat atau "landing"? **Tetap/Dipercepat/Diperlambat**
3. Bagaimana kecepatan pesawat pada saat melayang diudara atau "cruising" pada ketinggian tertentu? **Tetap/Dipercepat/Diperlambat**
4. Bagaimana perbedaan kecepatan pesawat saat "take off", "landing" dan "cruising"? Jelaskan berdasarkan pemahamanMU!

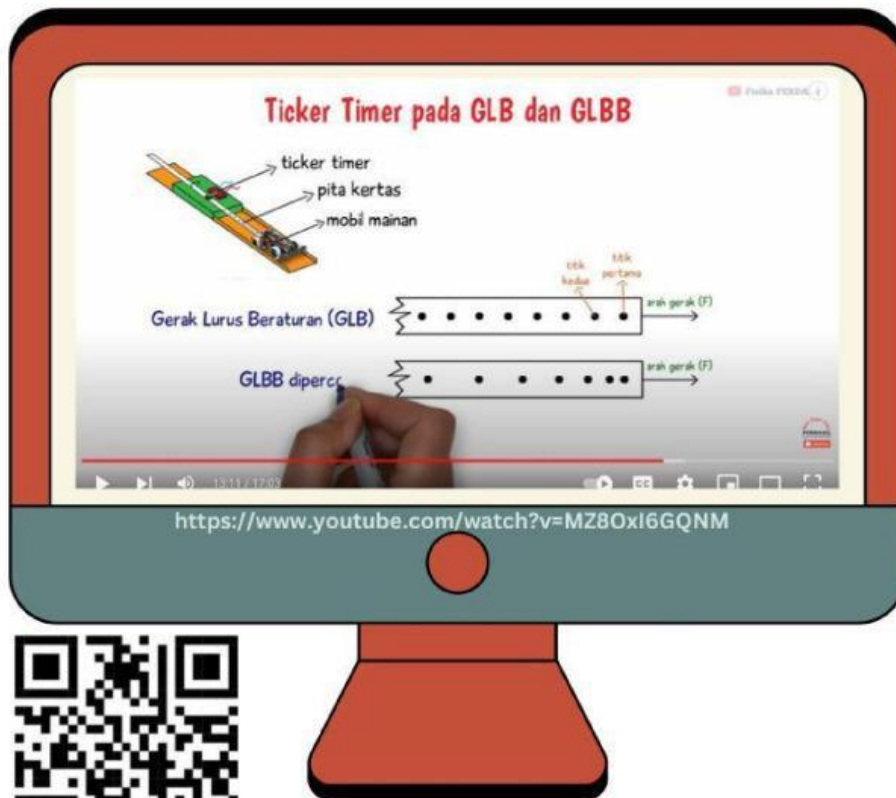


Materi Diskusi

B. Gerak Lurus

Gerak lurus adalah gerak dengan lintasan garis lurus. Gerak Lurus dibagi menjadi dua berdasarkan kecepatan benda yaitu Gerak Lurus Beraturan (GLB) dan Gerak Lurus Berubah Beraturan (GLBB).

Untuk lebih memahami tentang gerak lurus dan cara membedakan Gerak Lurus Beraturan (GLB) dan Gerak Lurus Berubah Beraturan (GLBB), amati video berikut ini!



Uji Pemahamanmu

Setelah kamu menonton video tersebut, lakukanlah diskusi kelompok dengan menguji pemahamanmu dalam menjawab pertanyaan-pertanyaan berikut ini:

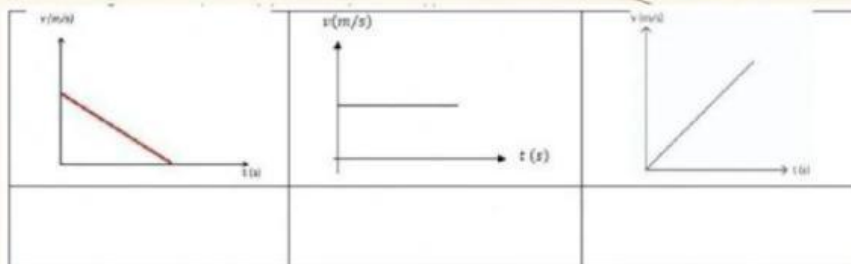
1. Berdasarkan pemahamanmu, Gerak Lurus Beraturan mempunyai ciri-ciri sebagai berikut:

- Bergerak pada lintasan berupa garis **lurus/melingkar/parabola**
- Bergerak dengan kecepatan **nol/tetap(konstan)/berubah beraturan**
- Percepatan benda adalah **nol/tetap(konstan)/berubah beraturan**

2. Berdasarkan pemahamanmu, Gerak Lurus Berubah Beraturan mempunyai ciri-ciri sebagai berikut:

- Bergerak pada lintasan berupa **garis lurus/melingkar/parabola**
- Bergerak dengan kecepatan **nol/tetap(konstan)/berubah beraturan**
- Percepatan benda adalah **nol/tetap(konstan)/berubah beraturan**

3. Perhatikan grafik kecepatan (v) terhadap waktu (t) berikut ini



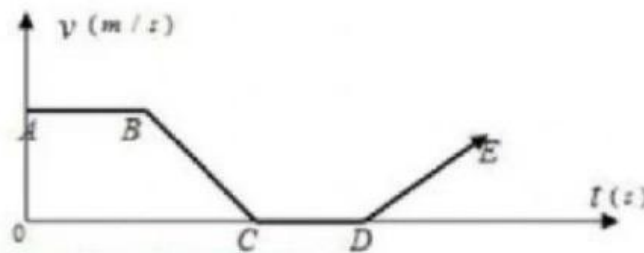
Pindahkan kotak-kotak gerak dibawah ini pada kolom diatas sesuai grafik yang benar

“ GLB ”

“ GLBB dipercepat ”

“ GLBB diperlambat ”

4. Grafik berikut ini menunjukkan hubungan kecepatan (v) terhadap waktu (t) suatu benda yang sedang bergerak melalui suatu lintasan tertentu. Tariklah garis pensil dibawah ini sesuai dengan gerak yang ditunjukkan oleh garis A-B, B-C, C-D dan D-E



www.fisikawanhijau.blogspot.com

GLB

★★★★★



GLBB
diperlambat

★★★★★

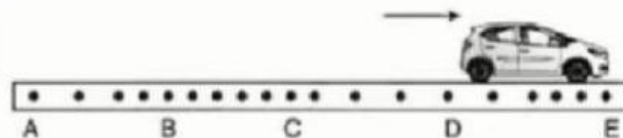


GLBB
dipercepat

★★★★★



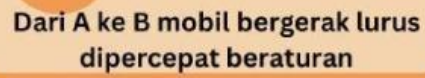
5. Mobil bergerak di jalan lurus. Ditengah perjalanan, oli mesin mobil menetes dan membentuk pola tetesan di jalan seperti gambar berikut ini:



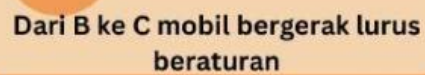
Berilha checklist untuk jenis gerak mobil yang tepat sesuai dengan pola tetesan oli!
(Boleh memilih lebih dari satu jawaban)

★★★★★

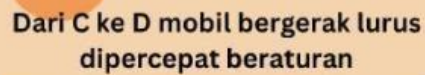
Dari A ke B mobil bergerak lurus
dipercepat beraturan



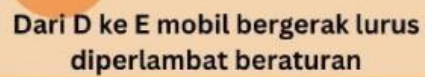
Dari A ke B mobil bergerak lurus dipercepat beraturan



Dari B ke C mobil bergerak lurus beraturan



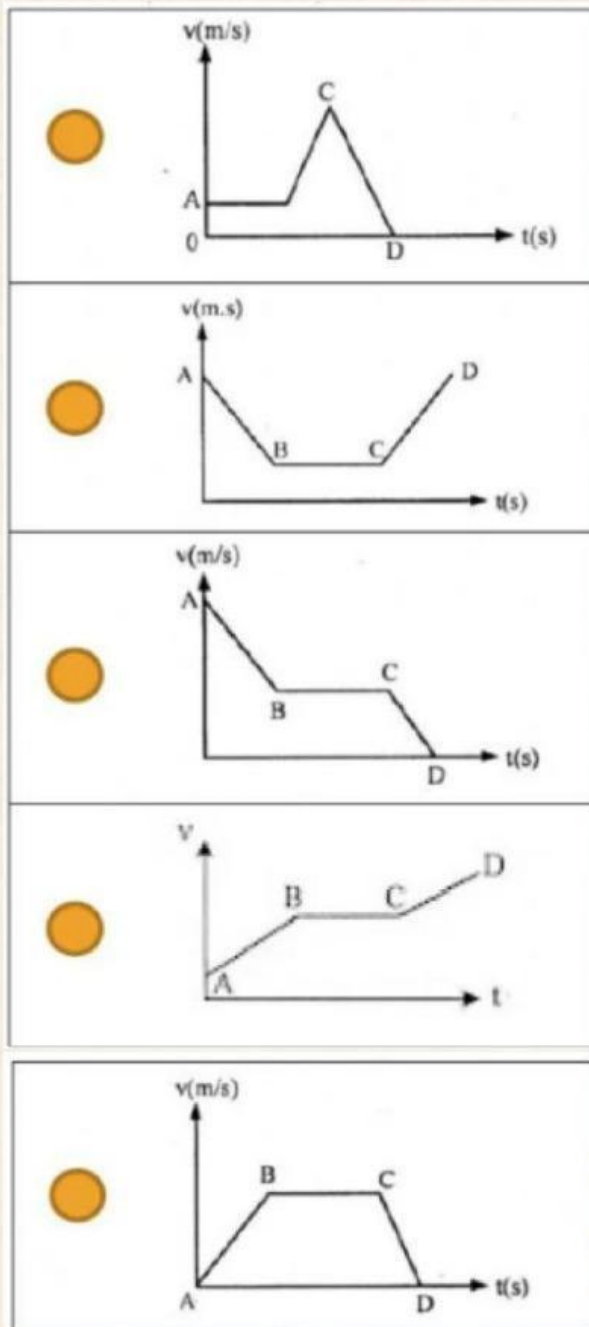
Dari C ke D mobil bergerak lurus dipercepat beraturan



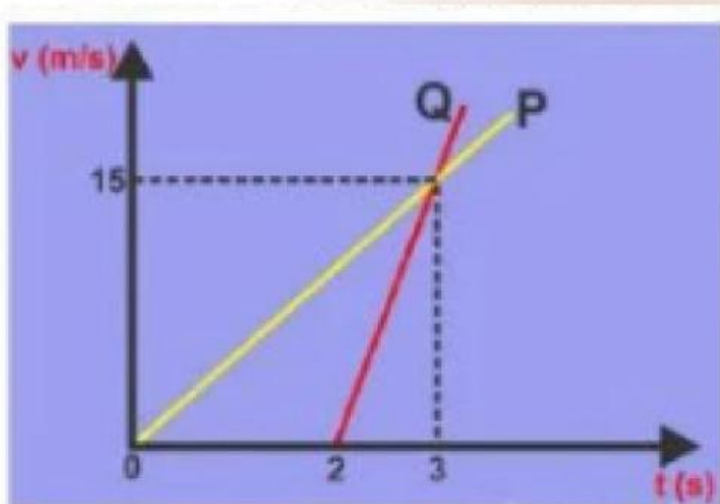
Dari D ke E mobil bergerak lurus diperlambat beraturan

A diagram showing a bus on a road. The road is represented by a horizontal line with a dashed center line. Four points are marked on the road: A, B, C, and D. A bus is shown on the road, positioned between points C and D.

Grafik kecepatan (v) terhadap waktu (t) dari A ke D tetesan oli yang paling tepat adalah.....



7. Grafik dibawah ini menunjukan grafik hubungan antara v (kecepatan) dengan t (waktu) dari dua benda P dan Q



Berdasarkan grafik tersebut mana yang lebih cepat?

Benda P / Benda Q

Hal ini disebabkan oleh karena: