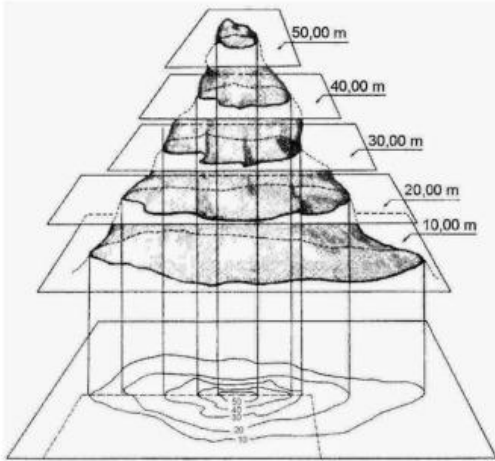


EXERCICIS DE CARTOGRAFIA – CORBES DE NIVELL

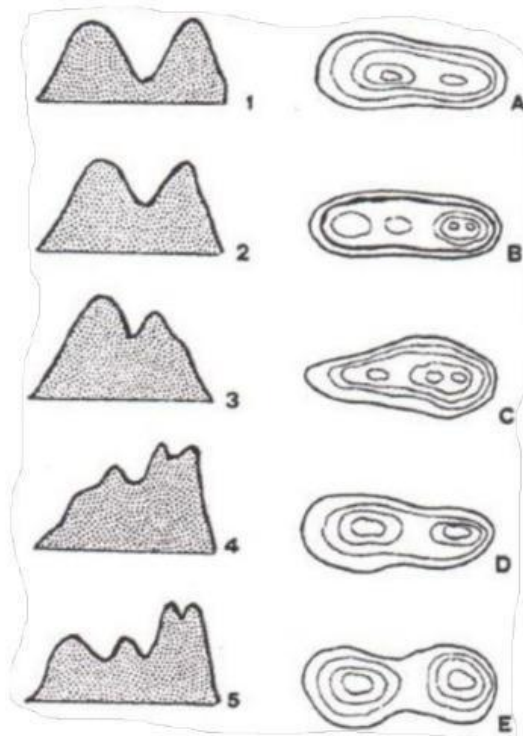
1. Mira atentament la imatge i completa el text:

mar · altitud · elevacions · línies · tridimensional



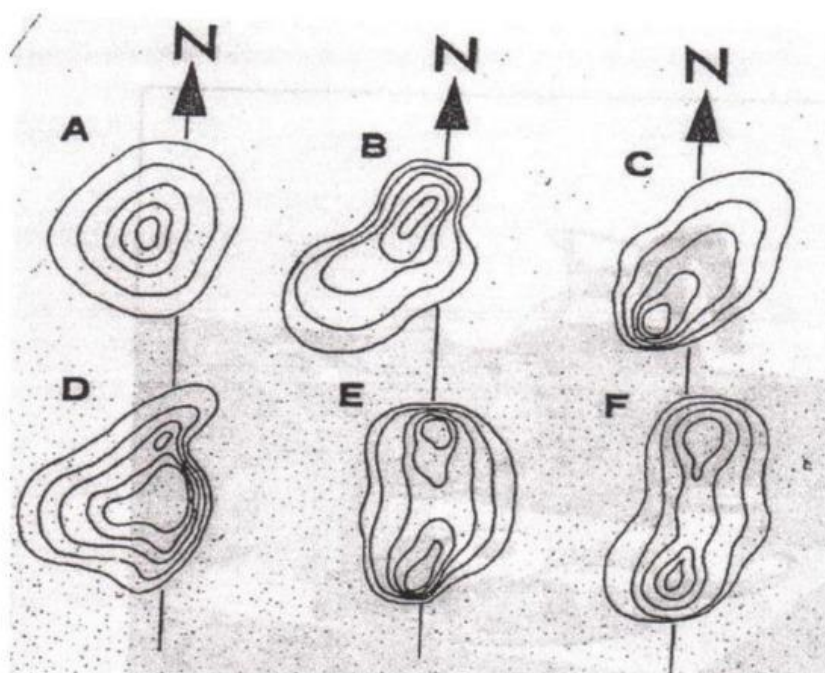
Les corbes de nivell són _____ en un mapa topogràfic que connecten punts d'igual _____ sobre el nivell del _____. Aquestes línies permeten representar la forma _____ del terreny en dues dimensions, mostrant _____, depressions i la inclinació del terreny.

2. Relaciona cada dibuix de les corbes de nivell amb el seu perfil.



PERFIL	CORBES
1	
2	
3	
4	
5	

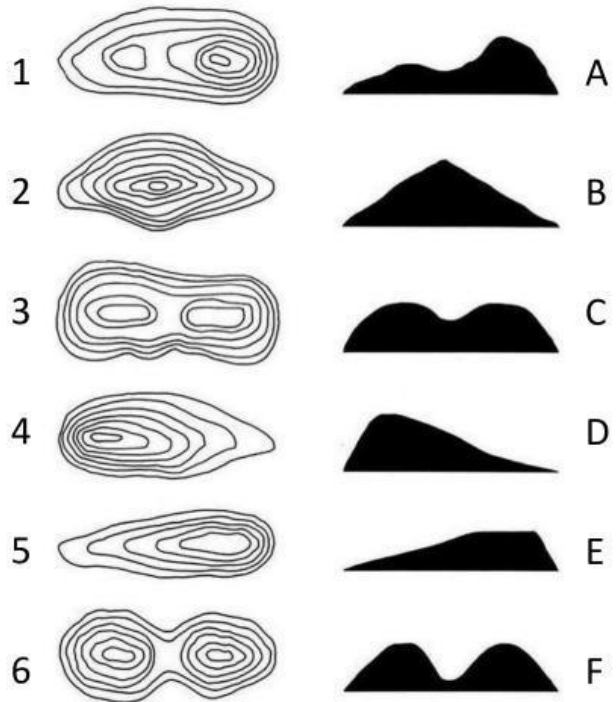
3. Llegeix els enunciats i relaciona'ls amb cada imatge:



	Les vessants Nord i Sud tenen un pendent molt fort, amb molt desnivell.
	La vessant més abrupta és al sud-oest, s'aconsella pujar per la vessant nord-est
	Aquesta forma del relleu té dos cims, però el del Sud és una mica més alt
	Tots els costats d'aquesta muntanya tenen el mateix pendent
	L'ascensió menys abrupta és per la cara sud-oest
	Les activitats d'escalada es realitzen a la cara est de la muntanya

4. Relaciona cada dibuix de les corbes de nivell amb el seu perfil:

PERFIL	CORBES
1	
2	
3	
4	
5	
6	



5. Observa les corbes de nivell i identifica'n la forma del relleu.

Plana amb poc desnivell · Muntanya · Vall en forma d'U

Penya-segat · Barranc · Plana amb un lleuger desnivell

