

BILANGAN PECAHAN

A. Perhatikan video dibawah ini



B. Kerjakan soal dibawah ini

1. Pecahan $\frac{7}{14}$ disederhanakan menjadi...


- a. $\frac{1}{2}$ c. $\frac{7}{14}$
b. $\frac{2}{7}$ d. $\frac{14}{7}$

2. Hasil dari $\frac{5}{6} - \frac{1}{3}$ adalah...


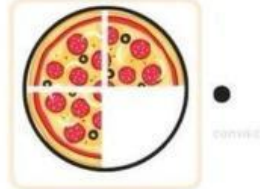
- a. $\frac{1}{3}$ c. $\frac{2}{3}$
b. $\frac{1}{2}$ d. $\frac{4}{3}$

3. Pilihlah jawban yang sesuai dengan soal dibawah ini

Sebuah taman membentuk persegi panjang memiliki panjang $3\frac{1}{2}$ meter dan lebar $2\frac{1}{4}$ meter. Hitung luar taman berikut



4. Buatlah garis ke jawaban yang benar



• $\frac{1}{1}$

• $\frac{1}{2}$

• $\frac{7}{8}$

• $\frac{3}{4}$

5. Tariklah gambar yang sesuai dengan jawaban

