

Problemas hasta la unidad de millar

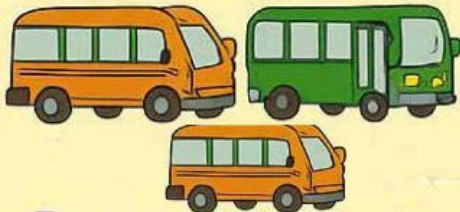



- 1 Andrés fue al mercado y gastó 642 soles en compras. Si tenía 950 soles, ¿cuánto dinero le quedó?

Le queda _____ soles.

- 2 Jimena tenía 238 libros. Durante una feria del libro, vendió 195. ¿Cuántos libros le quedan después de la feria?

Después de la feria le quedan _____ libros.



- 3 Cuatro buses llevaron a 660 alumnos de excursión. Si en cada bus viajaron la misma cantidad de alumnos, ¿cuántos alumnos fueron en cada bus?

En cada bus fueron _____ alumnos.

- 4 Luis durmió 387 minutos el sábado y 462 minutos el domingo. ¿Cuántos minutos durmió en total?

Luis durmió _____ minutos en total.



- 5 En el jardín hay 859 plantas sembradas y Rosario sembró 106 plantas más. ¿Cuántas plantas hay ahora en el jardín?

En el jardín hay ahora _____ plantas.

MÁS PROBLEMITAS



6. Romina fue con su mamá a una tienda por departamentos. Si su mamá compro una figura decorativa por 275 soles, ¿cuánto gastó en total por la compra de tres figuras iguales?

Su mamá gastó soles
por las tres figuras iguales.

7. En la IE 40163 Benigno Ballón Farfán por las elecciones municipales escolares votaron 352 alumnos de primaria y 689 alumnos de secundaria. Cuántos alumnos votaron en total?

Votaron en total alumnos.




8. El último sábado, la familia de Ana fue al zoológico. Si, en la mañana ingresaron 465 personas, al medio día 100 y en la tarde 260 ¿Cuántas personas acudieron al zoológico ese día?

Ese día acudieron personas.

9. Jorge tiene una extensa colección de carritos. Su amigo Mario le obsequia 339 carritos. Ahora Jorge tiene 568 carritos. ¿Cuántos carritos tuvo Jorge al inicio?

Al inicio Jorge tuvo carritos.



10. En el almacén de una fábrica hay 690 mochilas. Un colegio quiere comprar 820 mochilas para regalar a sus estudiantes. ¿Cuántas mochilas más debe confeccionar la fabrica para vender al colegio?

La fabrica debe confeccionar mochilas más.