

NOMBRE:

FECHA:

1. COLOCA LOS NÚMEROS Y ESCRIBE EL RESULTADO

$17 + 5 =$

$23 + 18 =$



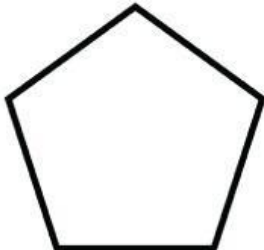
$4 + 7 =$

	D	U
	1	7
+		5

	D	U
+		

	D	U
+		

2. ESCRIBE CUÁNTOS LADOS TIENE CADA FIGURA

3. UNE CON FLECHAS CADA NÚMERO CON SU REPRESENTACIÓN

25	13	34	36	28

4. He armado 12 barcos de papel y mi hermano Juan 8. ¿Cuántos hemos armado entre los dos?

Yo he armado: .....

Barcos de Juan .....

Agrupo.

	D	U

Hemos armado ..... barcos