

ورقة عمل معدلة وفق الخطة الموضوعية لذوي الهمم

اسم الطالب: الصف والشعبة: G12 /

العنوان : معدل نمو الجماعة الاحيائية Title: Population Growth Rate

Learning outcomes:

* نواتج التعلم :-

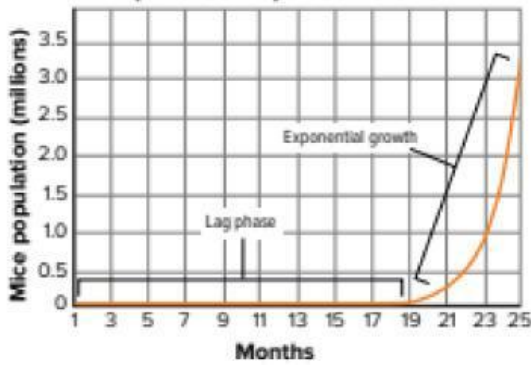
* يحدد أوجه الشبه بين النماذج المختلفة التي تستخدم في تحديد مقدار نمو الجماعة الاحيائية

Identifies similarities between different models used to quantify biological community growth

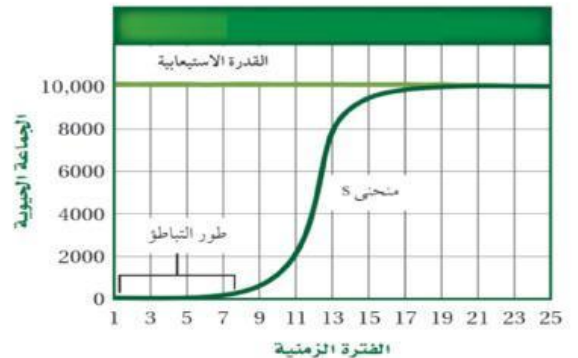
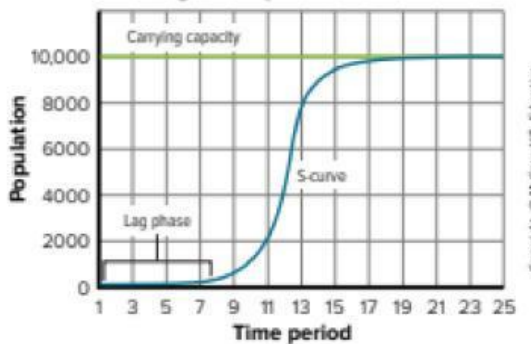
ضع العبارة الصحيحة في المكان المناسب :

النمو اللوجستي (S)
Logistic Growth (S)

النمو الاسي (J)
Exponential Growth (J)



Blank box for labeling the exponential growth graph.



Blank box for labeling the logistic growth graph.