

LKPD **GEJALA PEMANSAN GLOBAL**



PENYUSUN : YENTI GUSTIA, S.Pd
Kelas / Semester : X / Semester Genap
Fase E

LKPD GEJALA PEMANASAN GLOBAL

Anggota Kelompok:

1
2
3

4
5
6

Tujuan Pembelajaran :

1. Mendeskripsikan Gejala Pemanasan Global
2. Mendeskripsikan hubungan Gejala Pemanasan Global dengan Perubahan Lingkungan
3. Menganalisis Masalah Kontekstual tentang Pemanasan Global

Pertanyaan Pemantik

1. Apakah Anda menyadari bahwa lingkungan sekitar anda telah banyak berubah
2. Suhu yang tak lagi sejuk musim kemarau dan musim hujan yang lamanya tidak selalu sama dari tahun ketahun, daerah yang tidak biasa terkena banjir kini terdampak banjir, dan banyak perubahan lainnya. Perubahan lingkungan yang anda rasakan saat ini adalah gejala yang menunjukkan bahwa bumi ini tidak sedang baik-baik saja. Apa yang menyebabkannya

Petunjuk

1. Jawablah pertanyaan pemantik setelah mengerjakan LKPD
2. Simak video yang di tayangkan oleh guru
3. Kerjakan LKPD dengan mengikuti langkah-langkah dalam LKPD
4. Temukan Permasalahan dan cari solusinya
5. Diskusikan dengan teman dalam suasana yang baik dan nyaman
6. Cari Informasi lain dari berbagai sumber
7. Membuat Kesimpulan

Jawab

Kegiatan 3.1

1. Simak vidio yang ditayangkan tentang materi gejala pemanasan global!!
2. Silakan ananda diskusikan dalam kelompok dan tuliskan bencana-bencana yang ananda saksikan pada vidio tersebut!



3. Setelah menuliskan fakta yang ananda temukan silakan ananda diskusikan didalam kelompok kemudia silakan ananda jawab pertanyaan berikut ini!

a. Menurut pendapat ananda apa saja penyebab terjadinya bencana tersebut dan hubungannya dengan pemanasan global?








b. Setelah menjawab pertanyaan no.3 bagian a silakan ananda tuliskan pada kolom dibawah ini tentang pengertian pemanasan global dan apa saja gejala/ciri-ciri dari pemanasan global tersebut?



Kegiatan 3.2



Setelah melakukan kegiatan 3.1 Silakan Ananda Lengkapi tabel berikut ini, ananda di perbolehkan untuk menggunakan sumber bacaan apapun untuk mengisi tabel tersebut

Gambar	Penyebab Terjadinya
	
Temperatur Bumi tinggi	
	
Curah Hujan yang tinggi	
	
Mencairnya Glasier	
	
Hilangnya Terumbu Karang	
	
Kekeringan	



Kegiatan 3.2

Silakan Ananda Lengkapi tabel berikut ini, ananda di perbolehkan untuk menggunakan sumber bacaan apapun untuk mengisi tabel tersebut

Gambar	Penyebab Terjadinya
 Kepunahan Spesies	
 Penipisan Lapisan Ozon dan Berlubang	

Dari tabel diatas silakan Ananda diskusikan apa solusi yang mungkin bisa dilakukan dilingkungan Ananda untuk meminimalisir gejala pemanasan global diatas?

JAWAB :

Menyimpulkan

Setelah melakukan Kegiatan 3.1 dan kegiatan 3.2 silakan ananda simpulkan hal-hal berikut ini!



1. Pengertian Pemanasan Global

2. Gejala -gejala Pemansan Global

3. Solusi Untuk meminimalisir gejala pemanasan global dilingkungan Sekitar Ananda



Nilai dan Paraf Guru