

## ورقة عمل معدلة وفق الخطة الموضوعية لذوي الهمم

اسم الطالب: .....

الصف والشعبة: ..... / G12

العنوان: جهاز المناعة - Immune system

### Learning outcomes:

\* نواتج التعلم :-

\* يحدد نوع خلايا الجهاز المناعي - Determines the type of immune system cells

Types of immune system cells :-

• أنواع خلايا الجهاز المناعي

• قم بوضع المسمى الصحيح لنوع الخلية المناعية امام الصورة الخاصة بها :- Put the name

of an immune cell type in front of its own image :

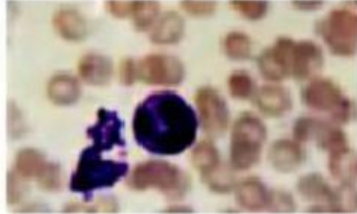
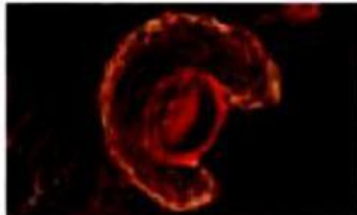

خلية متعادلة  
Neutrophils

خلية ابتلاعية كبيرة  
Macrophages

خلية لمفية -  
Lymphocytes

Table 2 Cells of the Immune System

## خلايا الجهاز المناعي

Type of Cell	Example	امثلة	Function	الوظيفة
نوع الخلية		LM Magnification: 800x	Phagocytosis: blood cells that ingest bacteria	
			Phagocytosis: blood cells that ingest bacteria and remove dead neutrophils and other debris	
		LM Magnification: 1600x	Specific immunity (antibodies and killing of pathogens): blood cells that produce antibodies and other chemicals	