

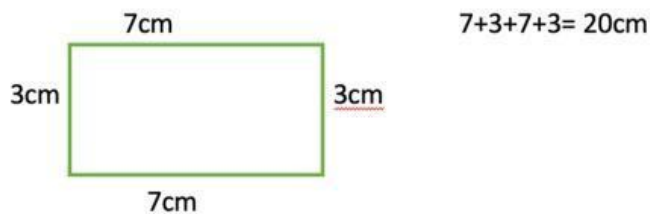
UNIDAD 14. PERÍMETRO



PERÍMETROS

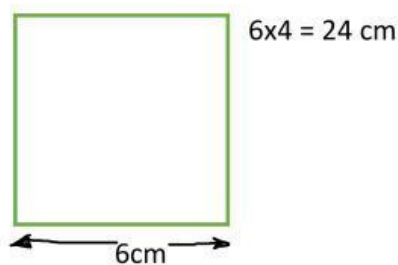
El perímetro es la **longitud de todos los lados** de un polígono. Es su contorno

El perímetro de un polígono se calcula **sumando (o multiplicando)** lo que miden todos sus lados.

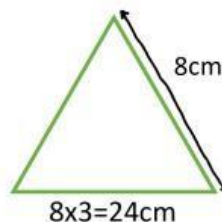
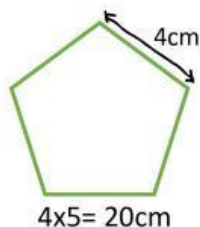


El perímetro de este polígono es 20 cm

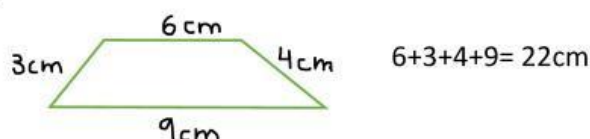
En un cuadrado, cómo todos los lados son iguales, es suficiente conocer la longitud de uno de los lados y multiplicarla por 4.



En todos los polígonos que tengan todos sus **lados iguales**, podremos calcular su perímetro multiplicando la longitud de ese lado, por el número de lados que tenga el polígono.



En un polígono cuyos lados sean todos **diferentes** el perímetro lo calcularemos sumando cada uno de ellos.



AHORA PUEDES HACER ESTOS JUEGOS PARA APRENDER MÁS SOBRE LOS PERÍMETROS

<https://www.mundoprimeria.com/juegos-educativos/juegos-matematicas/juego-perimetro>

<https://www.mundoprimeria.com/juegos-educativos/juegos-matematicas/juego-resolucion-perimetro>