

Česká republika

- 1) Jakou rozlohu má Česká republika?
 - a) 678 km²
 - b) 78 866 km²
 - c) 870 678 km²
- 2) Kolik obyvatel žije v České republice? (v milionech)
 - a) 10,6
 - b) 5,2
 - c) 15,6
- 3) Státní symboly ČR jsou:
 - a) Státní vlajka, malý a velký státní znak, hymna, vlajka prezidenta republiky, znak stojícího lva, státní barvy
 - b) Státní vlajka, malý a velký státní znak, hymna, vlajka prezidenta republiky, státní pečeť, státní barvy
 - c) Státní vlajka, malý a velký státní znak, hymna, heslo: „Pravda vítězí!“, státní pečeť, státní barvy
- 4) Nejdelsí hranici má Česká republika s
 - a) Polskem
 - b) Slovenskem
 - c) Maďarskem
 - d) Německem
 - e) Rakouskem



- 5) Podnebí v ČR je hlavně ovlivněno nadmořskou výškou. S rostoucí nadmořskou výškou se mění teplota i množství srážek a tím se mění i skladba rostlin. Co všechno bude platit pro nížiny?




- 6) Kde se v České republice těží tyto suroviny? Pospojuj.

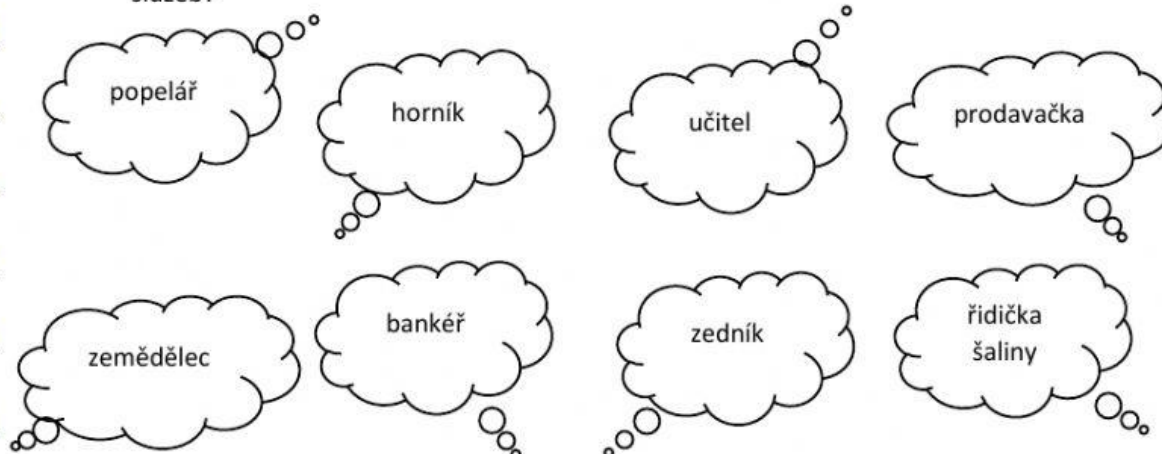
- | | |
|----------------------|-------------------------------|
| a) Černé uhlí | jihovýchodní Morava (Hodonín) |
| b) Hnědé uhlí | severní Čechy (Most, Sokolov) |
| c) Ropa a zemní plyn | severní Morava (Karviná) |

7) Hutnický průmysl je soustředěn na Ostravsku. Takový průmysl vyrábí:

- a) Benzín a naftu
- b) Plasty a igelity
- c) Barvy a laky
- d) Kovy a ocel



8) Nejvíce obyvatel ČR pracuje ve službách. Ve službách se nic nevyrábí. Jaká povolání patří do služeb?



9) Přehrady slouží k výrobě elektrické energie, jako ochrana proti povodním nebo jako zásobárna pitné vody. Největší objem a nejvíce elektrické energie vyrobí přehradní nádrž:

- a) Orlická na Vltavě
- b) Lipno na Vltavě
- c) Prágl na Svatce

10) Přiřaď úmoří jednotlivých řek.

Labe	Černé moře
Odra	Baltské moře
Morava	Severní moře

11) Rybníkářství má u nás staletou tradici především na Třeboňsku, kde se nachází i největší rybník

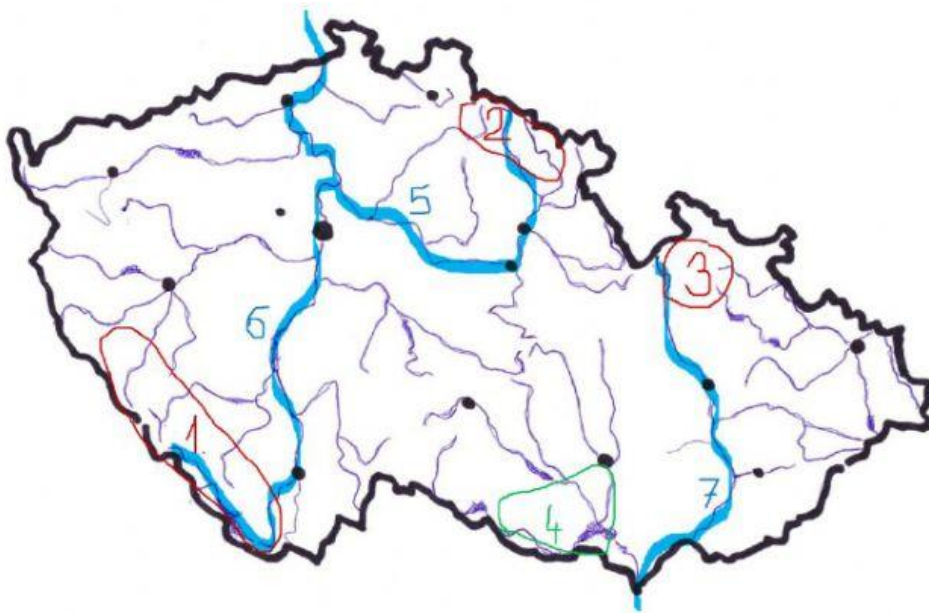
- a) Holásecká jezera
- b) Rožmberk
- c) Nesyt

12) Nejvyšší horu najdeme v jmenuje se a měří 1603m n.m. Největší jezero je jezero a najdeme ho na Šumavě. Nejdelší řeka je, která také pramení na

Vltava Černé Krkonošich Šumavě Sněžka

13) Slepá mapa – napiš do rámečků správná čísla.

- Vltava
- Krkonoše
- Hrubý Jeseník
- Dyjsko – svratecký úval
- Labe
- Šumava
- Morava



14) Strašně moc se těším do školy, hlavně na ČS!

- a) ANO
- b) NE