



LKPD

Ilmu Pengetahuan Alam & Sosial

Perkembangbiakan Tumbuhan

Nama: _____

Kelas: _____



TOPIK C



PERKEMBANGBIAKAN VEGETATIF BUATAN

Tuliskan jenis perkembangbiakan vegetatif buatan pada tumbuhan di bawah ini!



<p>.....</p>	<p>.....</p>	<p>.....</p>
<p>.....</p>	<p>.....</p>	<p>.....</p>

Cangkok

Menempel

Stek batang

Merunduk

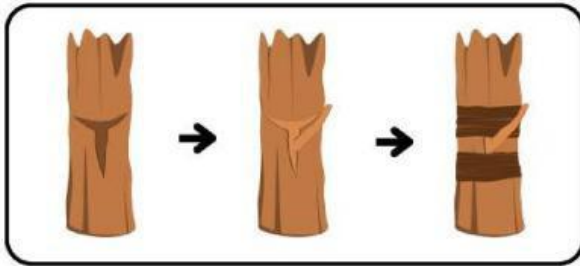
Stek Daun

Menyambung

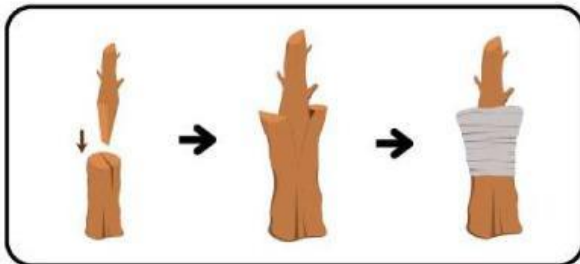


Perkembangbiakan Vegetatif Buatan

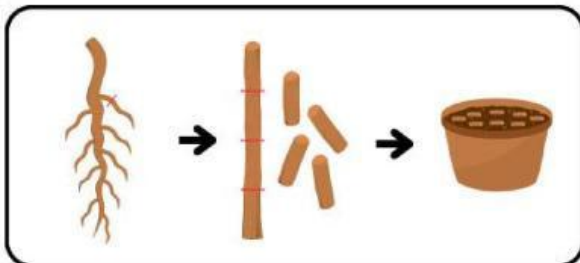
Pasangkan gambar dan nama perkembangbiakan vegetatif buatanya dengan garis lurus.



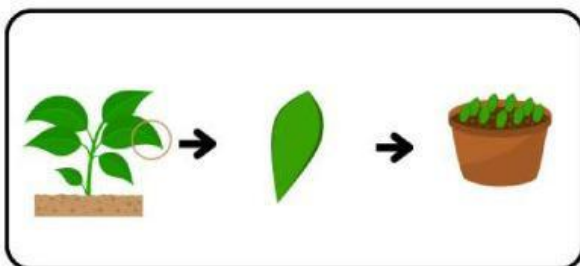
● **Setek Daun**




● **Setek Batang**



● **Setek Akar**



● **Okulasi**



● **Sambung**

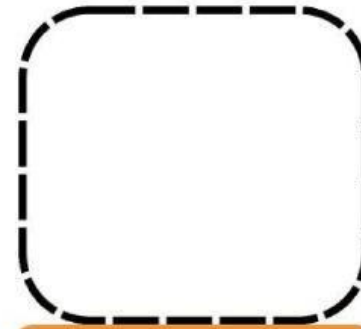
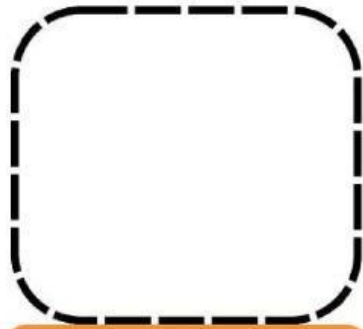


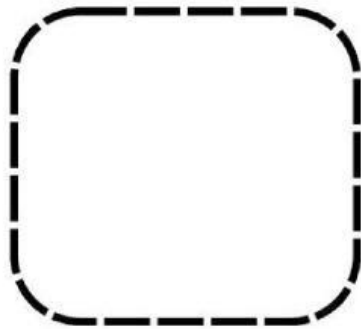
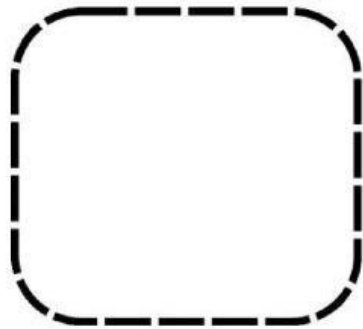




Perkembangbiakan Tumbuhan Secara Vegetatif Alami dan Vegetatif Buatan



Pasangkan gambar dengan tepat dan tempel sesuaikan dengan pot yang diminta!



Vegetatif Alami



Vegetatif Buatan

