



Сравнете представителите на двата класа покритосеменни растения по предложените белези.

Клас Двуседелни




Клас Едноседелни



Активирайте Windows
Отворете тази задача за да а
Windows.

Означете схемата.



чашелистче

венчелистчета

прашнички торбички

семецька

тичинкова дръжка

стълбче

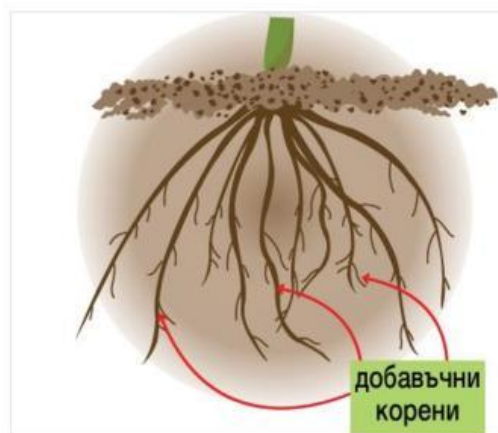
плодник

цветна дръжка

близалце



а) брадата коренова система



б) осева коренова система.