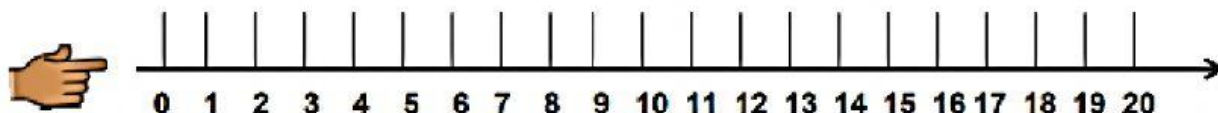




ALUNO(A): \_\_\_\_\_ TURMA: \_\_\_\_\_

**MATEMÁTICA****RETA NUMÉRICA**

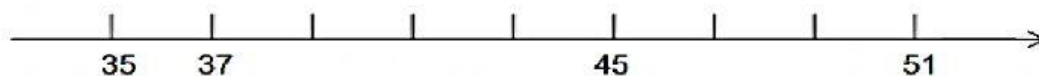
Para visualizarmos melhor a sequência dos números naturais, podemos representá-la em uma linha reta chamada de **reta numérica**.



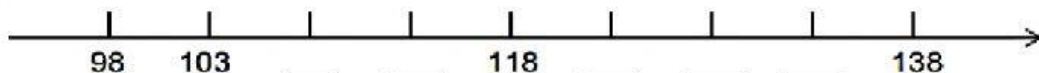
A reta numérica em que estão representados os números naturais tem origem no ponto zero e é crescente para a direita, de modo que a distância de um número dado para o seu sucessor é sempre igual. Uma reta numérica pode ter intervalos diferentes de 1. A sequência pode ser de 2 em 2, de 3 em 3, de 5 em 5 ...

➤ **Complete as retas numéricas abaixo e localize os números em cada uma**

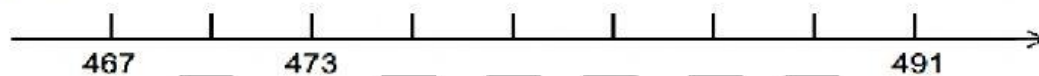
a) 41



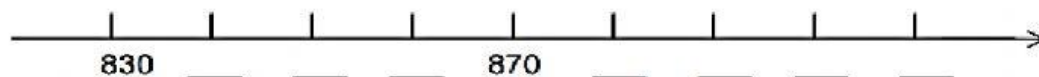
b) 128



c) 482



d) 850

**ATENÇÃO!**

Não é necessário imprimir.

