

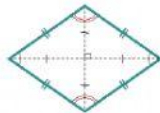
Kerjakan semua permasalahan dalam LKPD ini dengan tepat!

Agar dapat menyelesaikan dengan tepat, silahkan simak materi berikut ini (video youtube)

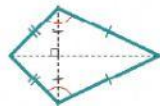


Selamat Mengerjakan...

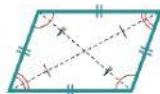
1. Cocokkan nama-nama bangun datar berikut (memasangkan)



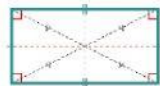
PERSEGI PANJANG



BELAH KETUPAT

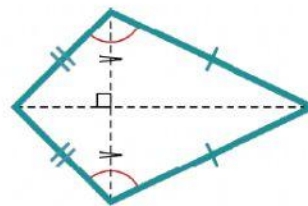
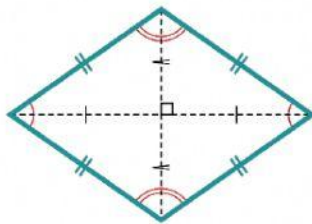


JAJAR GENJANG

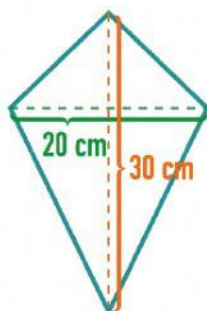


LAYANG-LAYANG

2. Salah satu sifat bangun datar berikut yang tepat adalah... (pilihan drop down)



3. Luas daerah sebuah persegi panjang adalah 24 cm^2 . Yang tidak mungkin menjadi ukuran panjang dan lebar persegi panjang tersebut adalah ... (pilihan ganda)
- a. 24 cm dan 1 cm c. 12 cm dan 2 cm
b. 20 cm dan 4 cm d. 8 cm dan 3 cm



4.

Budi membuat layang-layang dengan ukuran seperti gambar di samping. Luas kertas minimum untuk membuat layang-layang tersebut adalah cm^2 . (jawaban singkat)