


AYO BERLATIH

Nama :

Kelas:

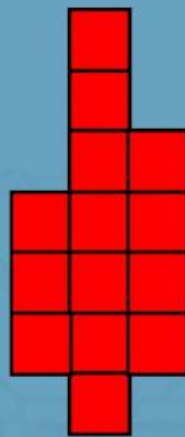
**KALU MEMBUAT DESAIN GAMBAR, DESAIN YANG DIBUAT BENTUKNYA
SEPERTI BERIKUT INI**



(A)



(B)



(C)



(D)



(E)

**Tentukan Luas dari Gambar A, B, C , D dan E dengan
Menggunakan persegi satuan.**

1. Luas Bangun A adalah

Satuan persegi

2. Luas Bangun B adalah

Satuan persegi

3. Luas Bangun C adalah

Satuan Persegi

4. Luas Bangun D adalah

Satuan Persegi

5. Luas Bangun E adalah

Satuan Persegi

AYO BERLATIH

Nama :

Kelas:

SISTEM Pengerjaan:

1. KERJAKAN TUGAS INI DI BUKU PETAK KALIAN MASING-MASING
2. SETELAH SELESAI, UPLOAD FOTO HASIL Pengerjaan TUGAS INI PADA LINK DI BAWAH

KAMU ADALAH SEORANG ARSITEK CILIK YANG HEBAT. KAMU AKAN MEMBUAT DENAH RUMAH IMPIAN DENGAN LUAS RUANGAN YANG SUDAH DITENTUKAN BERIKUT INI:

A. RUANG TAMU : 50 SATUAN


B. DAPUR : 24 SATUAN

C. TOILET : 20 SATUAN

D. KAMAR UTAMA : 55 SATUAN

E. RUANG TAMU : 36 SATUAN

F. GARASI : 38 SATUAN

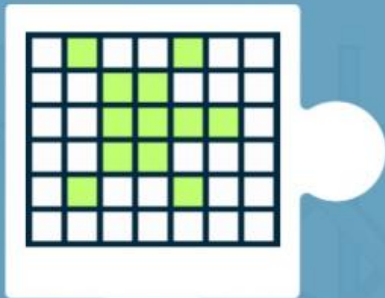


AYO BERLATIH


Nama :

Kelas:

HUBUNGKAN GAMBAR DENGAN JUMLAH LUAS SATUAN PERSEGI BERIKUT INI DENGAN CERMAT !



**18 Persegi
Satuan**



**12 Persegi
Satuan**



**24 Persegi
Satuan**



**28 Persegi
Satuan**