
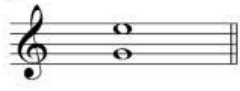




















Intervalos

Clasifica los
siguientes
intervalos:

Escribe el número
y la especie. Por
ejemplo: 2 menor



1  _____	2  _____	3  _____	4  _____
5  _____	6  _____	7  _____	8  _____
9  _____	10  _____	11  _____	12  _____
13  _____	14  _____	15  _____	16  _____
17  _____	18  _____	19  _____	20  _____

