







NAMA : _____
KELAS/ NO. ABSEN : _____

Latihan 3 Matematika bab 7

Isilah titik-titik berdasarkan tabel berikut !

1. Perhatikan diagram gambar berikut !

Membaca	
Menyanyi	
Melukis	
Olahraga	
Memasak	

Keterangan:
 = 1 orang




- a. Siswa yang hobi menyanyi sebanyak orang.
- b. Siswa yang hobi melukis sebanyak orang.
- c. Siswa yang hobi olahraga sebanyak orang.
- d. Siswa yang hobi membaca sebanyak orang.
- e. Siswa yang hobi olahraga sebanyak orang.
- f. Hobi yang paling banyak digemari siswa adalah
- g. Jumlah seluruh siswa adalah orang.

2. Berikut adalah data nilai ulangan matematika siswa kelas V.



- Siswa yang mendapat nilai 7 sebanyak orang.
- Siswa yang mendapat nilai 6 sebanyak orang.
- Siswa yang mendapat nilai 8 sebanyak orang.
- Siswa yang mendapat nilai 5 sebanyak orang.
- Siswa yang mendapat nilai 9 sebanyak orang.
- Nilai tertinggi yang diperoleh siswa adalah .
- Nilai terendah yang diperoleh siswa adalah .
- Jumlah seluruh siswa adalah .

3. Pekerjaan kepala keluarga RT 03 Desa Sukamahi adalah sebagai berikut

Petani	
Pegawai negeri	
Wiraswasta	
Nelayan	

Keterangan:
 = 5 orang




a. Kepala keluarga yang bekerja sebagai petani sebanyak orang.


b. Kepala keluarga yang bekerja sebagai nelayan sebanyak orang.

c. Pekerjaan yang paling banyak ditekuni kepala keluarga RT 03 adalah sebanyak orang.

d. Pekerjaan yang paling sedikit ditekuni kepala keluarga RT 03 adalah sebanyak orang.

4. Perhatikan hasil penjualan es krim berikut :

Vanila	
Cokelat	
Stroberi	
Moka	

Keterangan:
 = 10 buah

a. Es krim stroberi terjual sebanyak buah.

b. Es krim rasa moka terjual sebanyak buah.

c. Es krim yang paling banyak terjual adalah rasa sebanyak buah.

d. Es krim yang paling sedikit terjual adalah rasa sebanyak buah.