

LEMBAR KERJA PESERTA DIDIK (LKPD) ONLINE

MATERI : LUAS PERMUKAAN PRISMA DAN LIMAS

NAMA :

NO.ABSEN :

KELAS :



UPT SPF SMP NEGERI 5 MAKASSAR

SOAL
MENJODOHKAN

Prisma dan limas di bawah garis merah
Silahkan tarik garis dari atas (jenis prisma dan limas) ke bawah garis
merah sehingga menjadi jawaban yang benar

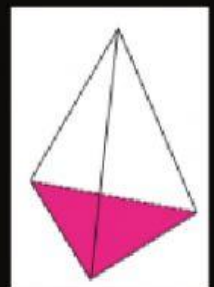
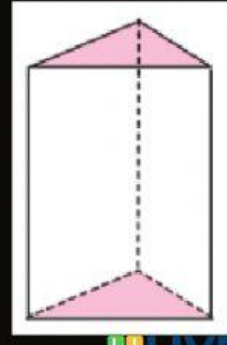
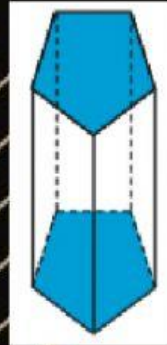
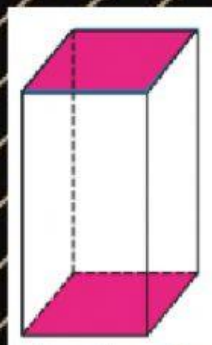
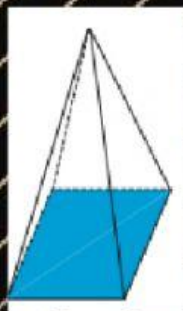
PRISMA
SEGITIGA

PRISMA
SEGIEMPAT

LIMAS
SEGITIGA

PRISMA
SEGI LIMA

LIMAS
SEGIEMPAT



SOAL PILIHAN GANDA

Sebuah prisma memiliki alas berbentuk segitiga siku-siku dengan alas 10 cm dan tinggi 15 cm, sedangkan tinggi prisma tersebut ialah 20 cm. Berapakah luas permukaan pada prisma tersebut?

- a. 1.050 cm^2
- b. 6.000 cm^2
- c. 5.075 cm^2
- d. 5.065 cm^2

ISIAN SINGKAT (Langsung tulis jawabannya)

Diketahui sebuah limas mempunyai alas berbentuk persegi dengan panjang sisi 8 cm. Jika tinggi segitiga pada sisi tegak adalah 12 cm, tentukan luas permukaan limas tersebut !

JAWABAN :