


# LKPD

## Lembar Kerja Peserta Didik

**Matematika : Bangun Datar**

**Pendekatan RME**

**Untuk Siswa Sekolah Dasar  
KELAS 4  
Tahun 2025**



Disusun oleh:  
Wina Nuraeni  
23510023



**Mari Belajar Bersama-sama,  
Ajak teman-temanmu untuk  
belajar bareng!!!**

Nama Anggota Kelompok :

.....  
.....  
.....  
.....

Kelas : .....

## **Tujuan Pembelajaran**

1. Siswa dapat mengenali dan mendeskripsikan berbagai bangun datar berdasarkan ciri-cirinya.
2. Siswa dapat menghubungkan konsep bangun datar dengan kehidupan sehari-hari.

## **Petunjuk LKPD**

1. Berdoalah sebelum memulai mengerjakan LKPD
2. Tulis Nama kelompok dan anggotanya yang telah disediakan
3. Baca, pahami, dan cermati LKPD dengan benar
4. Kerjakan dan diskusikan LKPD dengan kelompok masing-masing
5. Jika ada hal yang kurang dipahami silahkan tanyakan kepada guru

# Menggunakan konteks nyata



## Soal Uraian

Lihat gambar rumah di samping ini.  
Sebutkan bagian rumah yang berbentuk bangun datar pada gambar rumah di samping!!

# Menggunakan Model-Model

## Soal Pilihan Ganda

Atap rumah pada gambar berbentuk...

- ☐ A Persegi panjang
- ☐ B Segitiga
- ☐ C Persegi
- ☐ D Lingkaran

Pintu rumah pada gambar berbentuk...

- ☐ A Persegi panjang
- ☐ B Segitiga
- ☐ C Persegi
- ☐ D Lingkaran



# Menggunakan Model-Model

## Menjodohkan




Lingkaran



Segitiga



Persegi panjang



Persegi

## intertwining, Kontribusi siswa, interaktivitas

### Soal Melengkapi

Jendela rumah berbentuk .....dan memiliki luas ...  
jika panjang sisinya 5 cm.

Atap rumah berbentuk ..... dan memiliki sudut ....

### Test Choose

Semua jendela rumah berbentuk lingkaran.

Atap rumah biasanya berbentuk segitiga.

Pintu rumah selalu berbentuk segi lima.

Luas persegi panjang dapat dihitung dengan rumus  
 $\text{panjang} \times \text{lebar}$ .

## Drag & Drop

Petunjuk : Seret dan tempatkan Jawaban yang menurut kamu benar ke gambar yang sesuai!




**Lingkaran**



**Segitiga**



**Persegi panjang**



**Persegi**

# intertwining, Kontribusi siswa, interaktivitas

## Listening (Mendengarkan)

Petunjuk: Dengarkan pertanyaan berikut yang dibacakan oleh guru, lalu jawab pertanyaannya



Jawablah :

## Speaking (Berbicara)

Bayangkan kamu ingin membangun rumah pohon. Bentuk bangun datar apa saja yang akan kamu gunakan? Mengapa?

Jawablah ->





# intertwining, Kontribusi siswa, interaktivitas

## Pilih kata (Word Choose)

- Pintu rumah berbentuk
- Atap rumah berbentuk

K	Q	W	C	P	T	S	S	G	E	A	G	G	S
S	F	H	B	C	V	E	A	S	E	G	D	W	C
O	L	I	M	A	P	G	L	I	S	F	B	D	B
B	V	M	H	T	E	I	T	D	G	U	G	V	E
L	T	A	B	S	K	I	M	S	D	A	W	D	F
S	S	B	V	E	G	L	R	F	S	F	G	T	E
P	E	R	S	E	G	I	P	A	N	J	A	N	G
Q	P	R	S	U	M	H	B	E	T	S	G	G	S
D	E	L	A	P	A	N	N	W	E	R	T	Y	A