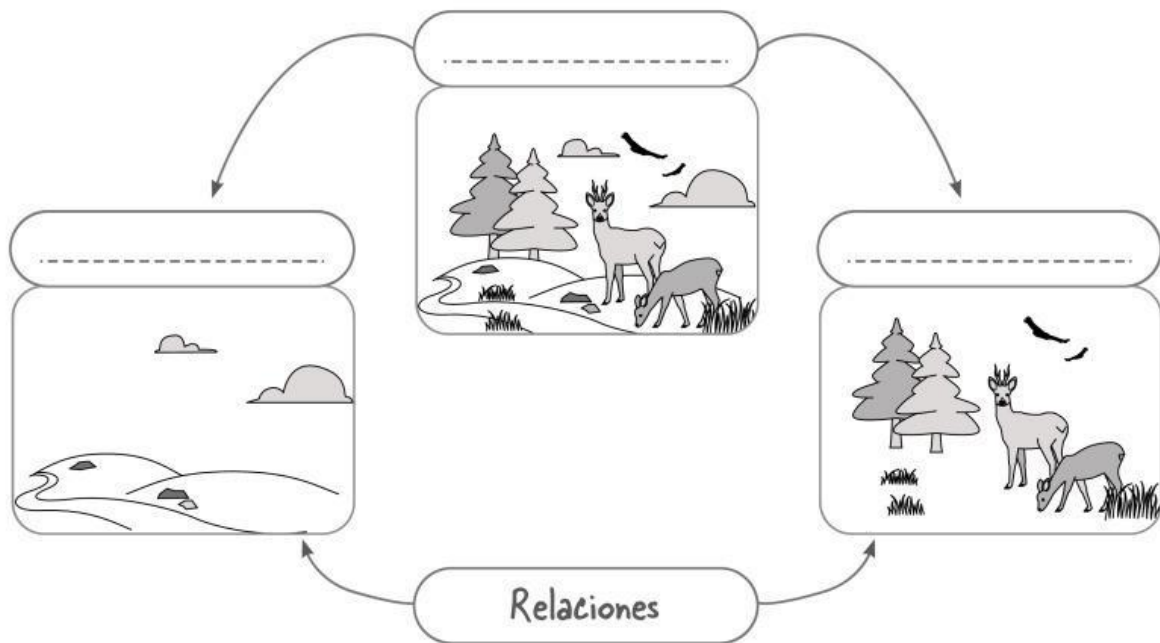


NOMBRE FECHA


ANTES DE EMPEZAR. Repasa las páginas 62, 63, 68 y 69 de la unidad 4.

- 1 Los ecosistemas están formados por los seres vivos, el medio físico y las relaciones que se dan entre ellos. Lee las páginas 62 y 63 y, a continuación, escribe los rótulos del dibujo.




- 2 Observa el ecosistema y dibuja en los recuadros inferiores los componentes que se indican.

Seres vivos



Medio físico



3 Lee las descripciones de los ecosistemas terrestres y relaciona mediante flechas.

Los **BOSQUES** están formados por muchos árboles, que dan refugio y alimento a los animales.



Las **PRADERAS** tienen abundante hierba, alimento de los animales herbívoros y los carnívoros que se alimentan de ellos.



Los **DESIERTOS**, debido a sus escasas lluvias, tienen pocas plantas y animales.



Las **ZONAS POLARES Y DE ALTA MONTAÑA** están cubiertas por nieve y hielo, por lo que casi no hay plantas ni animales.



PARA TERMINAR. Elige un ecosistema de los que aparecen en las fotografías y describe en tu cuaderno cuáles son sus componentes.