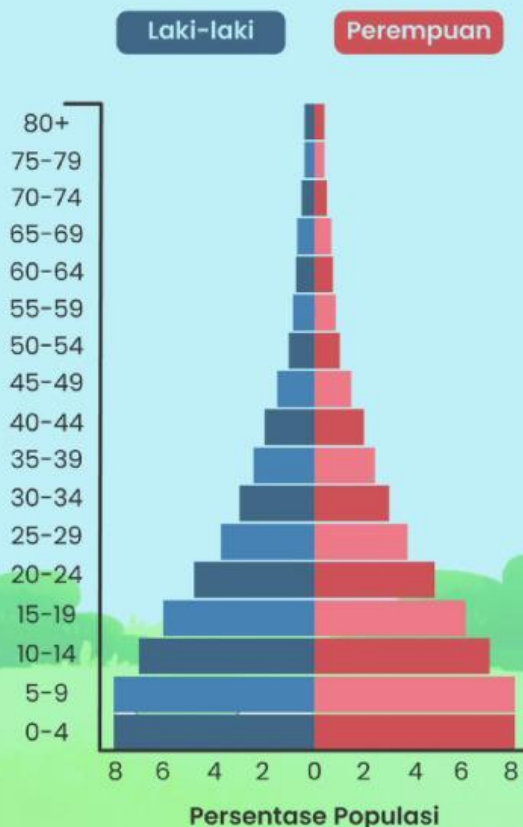


**SMAN 1 PRABUMULIH**  
**KELAS XI**  
**MAPEL GEOGRAFI**  
**LEMBAR KERJA**  
**PESERTA DIDIK**  
**PIRAMIDA PENDUDUK**

Nama :

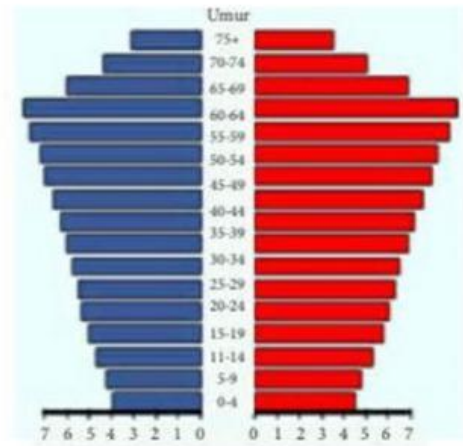
Kelas :

Semester : Genap

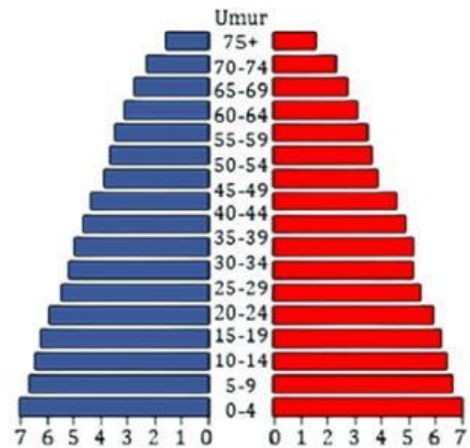


Yuk! Hubungkan gambar piramida penduduk dengan jenis piramidanya!

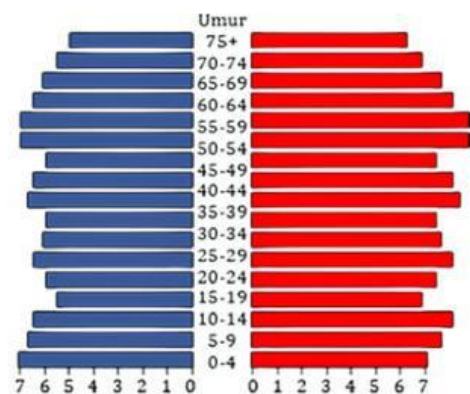
## Piramida Stasioner



## Piramida Konstruktif



## Piramida Ekspansif



# PIRAMIDA PENDUDUK



Tentukanlah pernyataan-pernyataan berikut ini dengan memberikan tanda centang ( ☐ ) pada kolom benar atau salah!

PERNYATAAN	BENAR	SALAH
Piramida stasioner menggambarkan keadaan penduduk yang mengalami pertumbuhan relatif stabil. Disebabkan tingkat kelahiran dan tingkat kematian seimbang	<input type="checkbox"/>	<input type="checkbox"/>
Piramida ekspansif dicirikan dengan angka kelahiran sangat tinggi dibandingkan angka kematian	<input type="checkbox"/>	<input type="checkbox"/>
Contoh piramida konstruktif antara lain Indonesia, India dan Thailand	<input type="checkbox"/>	<input type="checkbox"/>
Piramida konstruktif dicirikan dengan Jumlah penduduk pada setiap kategori atau kelompok hampir sama	<input type="checkbox"/>	<input type="checkbox"/>
Contoh piramida stasioner antara lain Amerika dan Inggris	<input type="checkbox"/>	<input type="checkbox"/>

