

Escuela Rogelio Fernández G.  
TAREA N.º 1 DE EST.SOCIALES  
3-3 1º SEMESTRE 2025

FECHA DE ASIGNACIÓN: 12-03-2025

FECHA DE ENTREGA: 19-03-2025

NOMBRE DEL ALUMNO: \_\_\_\_\_

**Indicadores del aprendizaje esperado:** Identificación e importancia del cantón donde se ubica el centro educativo.

Se le calificará lo siguiente:

**INSTRUCCIONES:**

1. Trabaje con buena letra orden y aseo. En las respuestas que muestre tachones, borrones u otra situación dudosa no se aceptarán reclamos.
2. Conteste la siguiente práctica dada a continuación de acuerdo con la materia estudiada.

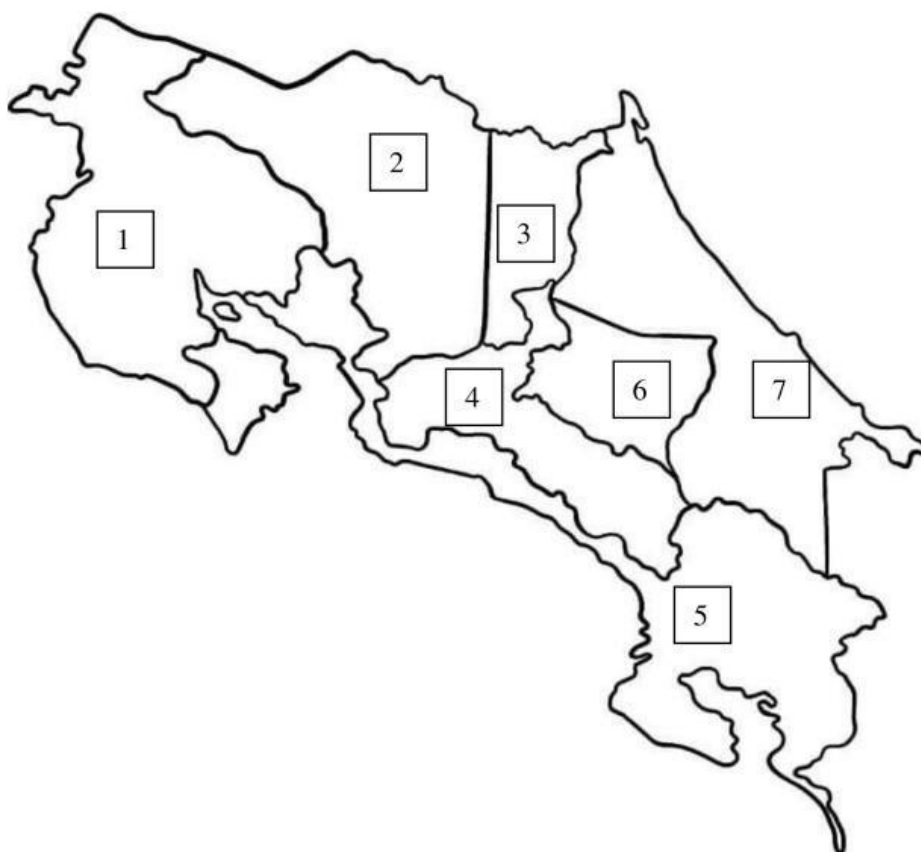
**PUNTUACIÓN: 7 puntos**

Puntos:

Calificación:

**Conteste los siguientes ejercicios que se le dan a continuación:**

Arrastre el nombre de cada provincia al espacio que corresponde.



1.Guanacaste

2. Alajuela

3. Heredia


4. San José

5.Puntarenas


6. Cartago

7.Limón

Una los puntos con las imágenes que corresponden. (2pts)



☐



☐

☐

**PARALELOS**

☐

**MERIDIANOS**