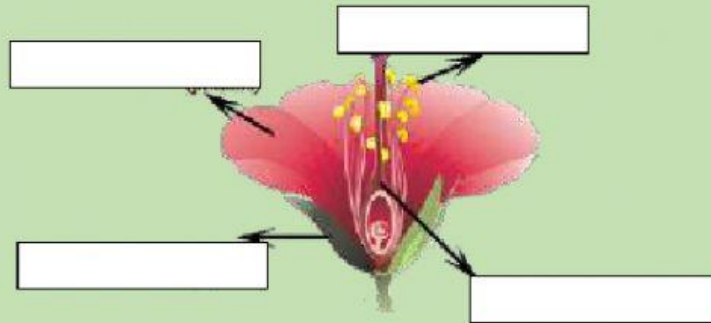


# Las Plantas


1. Pulsa en las partes que tienen todas las plantas en común;

Tallo	Hoja	Pétalo	Flores
Raíz	Fruto	Sépalo	Estambre

2. Escribe el nombre de las partes de la flor










3. Pulsa si las siguientes plantas son gimnospermas o angiospermas:

	<input type="checkbox"/> GIMNOSPERMA	<input type="checkbox"/> ANGIOSPERMA		<input type="checkbox"/> GIMNOSPERMA	<input type="checkbox"/> ANGIOSPERMA
	<input type="checkbox"/> GIMNOSPERMA	<input type="checkbox"/> ANGIOSPERMA		<input type="checkbox"/> GIMNOSPERMA	<input type="checkbox"/> ANGIOSPERMA
	<input type="checkbox"/> GIMNOSPERMA	<input type="checkbox"/> ANGIOSPERMA		<input type="checkbox"/> GIMNOSPERMA	<input type="checkbox"/> ANGIOSPERMA
	<input type="checkbox"/> GIMNOSPERMA	<input type="checkbox"/> ANGIOSPERMA		<input type="checkbox"/> GIMNOSPERMA	<input type="checkbox"/> ANGIOSPERMA
	<input type="checkbox"/> GIMNOSPERMA	<input type="checkbox"/> ANGIOSPERMA		<input type="checkbox"/> GIMNOSPERMA	<input type="checkbox"/> ANGIOSPERMA

**4. Indica qué imagen corresponde al tipo de planta sin flor:**

Musgo		Helecho	
			

**5. Une con el tipo de borde y forma del limbo que tiene cada hoja:**

Tipo de borde		Forma del limbo	
Lisa			Redondeada
			Ovalada
Dentada			Lanceolada
			Palmeada
Lobulada			Acorazonada
			Triangular