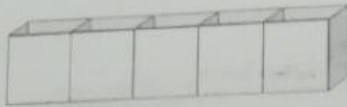


202

Nelle 5 scatole ci sono 350 palline.
Quante ce ne sono in 3 scatole?



1 op.
2 op.

203

In 3 scatole ci sono 15 palline.
Quante ce ne sono in 5 scatole?



1 op.
2 op.

204

In tutto ci sono 480 penne.
Quante ce ne sono in 2 scatole?



1 op.
2 op.

205

In 4 scatole ci sono 80 pennarelli.
Quanti ce ne sono in 5 scatole?



1 op.
2 op.

206

In totale ci sono 700 gomme.
Quante gomme ci sono in 2 scatole?



1 op.
2 op.

207

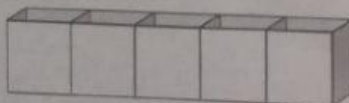
2 scatole contengono 120 quaderni.
Quanti quaderni in totale?



1 op.
2 op.

208

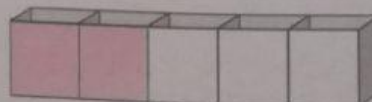
In tutto ci sono 1 200 palline.
Quante ce ne sono in 4 scatole?



1 op.
2 op.

209

Nelle scatole rosa ci sono 340 penne.
Quante ce ne sono nelle scatole bianche?



1 op.
2 op.