



PEMERINTAH PROVINSI KALIMANTAN SELATAN
DINAS PENDIDIKAN DAN KEBUDAYAAN
SMA NEGERI 1 TAMBANG ULANG



Terakreditasi C, Nomor 239/KEP/bap-SM/XI/KU/2017, tanggal 25 November 2017

Alamat : Jl. Ahmad Yani KM. 49 Kec. Tambang Ulang Kab.Tanah Laut

Email : smatambangulang@gmail.com, Web : <https://sman1tambangulang.com/> NPSN : 60702927

ASESMEN SUMATIF AKHIR
TAHUN PELAJARAN 2024/2025

Mata Pelajaran : SOSIOLOGI

Kelas : XII

1. Perhatikan gambar penggunaan alat komunikasi berikut!



Berdasarkan gambar tersebut, dampak negatif yang dapat timbul terhadap hubungan sosial adalah...

- Setiap individu akan terlibat lebih aktif dalam kegiatan kemasyarakatan karena dibantu alat komunikasi yang modern dan canggih
- Komunikasi di antara sesama anggota masyarakat akan semakin lancar karena ditunjang oleh alat komunikasi yang canggih
- Semakin eratnya hubungan sosial di antara sesama anggota masyarakat karena menggunakan alat komunikasi yang canggih
- Semakin renggangnya hubungan sosial di antara anggota masyarakat karena masing-masing individu sibuk dengan alat komunikasi yang canggih
- Kehidupan masyarakat akan semakin dinamis karena hubungan sosial di antara anggota masyarakat semakin akrab dengan fasilitas oleh alat komunikasi yang canggih.

2. Perhatikan data kependudukan Kecamatan Padang Batung berikut!

No	Tahun	Jumlah Penduduk Miskin
1	2017	2.314
2	2018	2.070
3	2019	1.989
4	2020	2.301
5	2021	2.045
6	2022	2.125
7	2023	2.445

Berdasarkan data pada tabel dapat diketahui bahwa...

- Penurunan jumlah penduduk miskin paling banyak terjadi pada tahun 2018
- Penduduk miskin Kecamatan Padang Batung terus meningkat
- Program pengentasan kemiskinan dari pemerintah belum maksimal

- d. Peningkatan penduduk miskin paling ekstrem terjadi pada tahun 2020
- e. Penduduk miskin berkurang tajam pada tahun 2021

3. Cermati teks berikut ini!

Max Weber membedakan tindakan sosial manusia ke dalam empat tipe :

A. Tindakan Rasionalitas Instrumental, Tindakan ini merupakan suatu tindakan sosial yang dilakukan seseorang didasarkan atas pertimbangan dan pilihan sadar yang berhubungan dengan tujuan tindakan itu dan ketersediaan alat yang dipergunakan untuk mencapainya. Tindakan ini telah dipertimbangkan dengan matang agar ia mencapai tujuan tertentu. Dengan perkataan lain menilai dan menentukan tujuan itu dan bisa saja tindakan itu dijadikan sebagai cara untuk mencapai tujuan lain.

B. Tindakan Rasional Nilai (*Werk Rational*) Sedangkan tindakan rasional nilai memiliki sifat bahwa alat-alat yang ada hanya merupakan pertimbangan dan perhitungan yang sadar, sementara tujuantujuannya sudah ada di dalam hubungannya dengan nilai-nilai individu yang bersifat absolut.

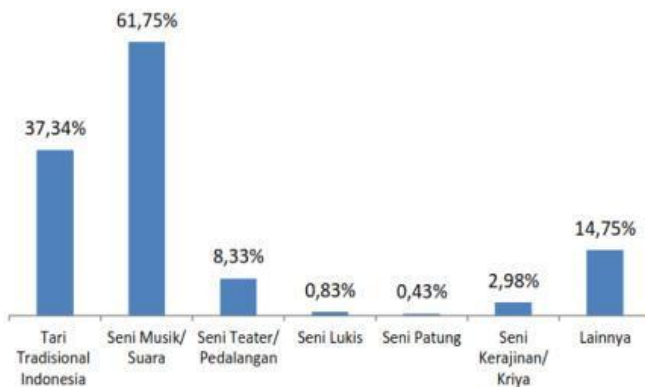
C. Tindakan Afektif (*Affectual Action*) Tipe tindakan sosial ini lebih didominasi perasaan atau emosi tanpa refleksi intelektual atau perencanaan sadar. Tindakan afektif sifatnya spontan, tidak rasional, dan merupakan ekspresi emosional dari individu.

D. Tindakan Tradisional (*Traditional Action*) Dalam tindakan jenis ini, seseorang memperlihatkan perilaku tertentu karena kebiasaan yang diperoleh dari nenek moyang, tanpa refleksi yang sadar atau perencanaan.

Berdasarkan teks di atas, Pasangkan (Jodohkan) pernyataan di kolom A dengan gambar di kolom B yang benar!

Tindakan sosial menurut Max Weber	
A	B
Tindakan Afektif	 Mengikuti Bimbel
Tindakan Rasional Instrumental	 Makan dengan Tangan Kanan
Tindakan Rasional Berorientasi Nilai	 Tradisi Ngerebong
Tindakan Tradisional	 Patah Hati

4. Eksistensi Keragaman Budaya Indonesia di Mata Dunia



Sumber : Survei MSBP 2015 dalam Analisis Kearifan Lokal Ditinjau dari keragaman Budaya terbitan Pusat Data dan Statistik Pendidikan dan Kebudayaan Kementerian Pendidikan dan Kebudayaan Republik Indonesia tahun 2016

Pernyataan yang benar berkaitan dengan info diagram tindakan tradisional di atas adalah...

- Tari tradisional menempati urutan ke dua dalam eksistensi keragaman Indonesia
 - Seni musik tradisional menempati urutan ke empat dalam eksistensi keragaman Indonesia
 - Tari tradisional menempati urutan pertama dalam eksistensi keragaman Indonesia
 - Tari tradisional mengalami penurunan dalam eksistensi keragaman Indonesia
 - Tari tradisional mengalami kenaikan pertama dalam eksistensi keragaman Indonesia
5. Manusia adalah makhluk yang unik, selain sebagai makhluk individu manusia juga termasuk makhluk sosial. Tingkah laku manusia sebagai makhluk individu berbeda dengan tingkah laku manusia sebagai makhluk sosial. Tingkah laku manusia sebagai makhluk sosial sangat dipengaruhi oleh lingkungan sosialnya dan setiap tindakan yang dilakukan akan memiliki maksud atau makna tertentu. Menurut Max Weber (1864-1920) seorang ahli sosiologi Jerman, tindakan bermakna yang dapat mempengaruhi individu lainnya dalam suatu lingkungan masyarakat disebut ...
- Interaksi Sosial
 - Integritas Sosial
 - Tindakan Sosial
 - Kontak Sosial
 - Nilai Sosial

Baca artikel di bawah ini untuk menjawab soal nomor 6 dan 7.

Sebuah penelitian sosial dilakukan untuk memahami dampak dari program pelatihan keterampilan bagi pengangguran di suatu kota besar. Penelitian ini menggunakan pendekatan kuantitatif dengan menyebarkan kuesioner kepada 200 peserta pelatihan yang telah mengikuti program selama 6 bulan. Hasil penelitian menunjukkan bahwa 70% peserta pelatihan berhasil mendapatkan pekerjaan dalam 3 bulan setelah mengikuti program, sementara 30% lainnya masih menganggur. Peneliti juga mengumpulkan data mengenai latar belakang pendidikan, usia, dan status pekerjaan peserta sebelum mengikuti pelatihan.

Dari hasil penelitian tersebut, peneliti ingin menganalisis hubungan antara faktor latar belakang pendidikan dan keberhasilan mendapatkan pekerjaan setelah mengikuti pelatihan. Peneliti bertanya apakah ada perbedaan yang signifikan antara tingkat pendidikan yang berbeda dalam mempengaruhi tingkat keberhasilan peserta dalam memperoleh pekerjaan.

Berdasarkan informasi yang diberikan pada stimulus di atas, berikut adalah pertanyaan yang berkaitan dengan analisis penelitian sosial tersebut.

6. Apa yang menjadi fokus utama dalam penelitian sosial yang disebutkan dalam stimulus di atas?
- a. Dampak dari pelatihan keterampilan terhadap tingkat pengangguran di kota besar
 - b. Hubungan antara latar belakang pendidikan dan keberhasilan peserta dalam mendapatkan pekerjaan
 - c. Jumlah peserta pelatihan yang berhasil mendapatkan pekerjaan
 - d. Analisis mengenai usia peserta pelatihan dan waktu yang dibutuhkan untuk mendapatkan pekerjaan
 - e. Latar belakang pendidikan dan keberhasilan pekerjaan
7. Berdasarkan hasil penelitian, berapa persen peserta pelatihan yang berhasil mendapatkan pekerjaan setelah 3 bulan?
- a. 50%
 - b. 60%
 - c. 70%
 - d. 80%
 - e. 90%

8. Perhatikan gambar berikut!



Mencorat-coreit di tembok dengan tulisan-tulisan dan gambar yang tidak jelas merupakan pengrusakan tempat umum oleh orang-orang yang tidak bertanggung jawab.

Realitas yang ditunjukkan pada gambar merupakan bagian permasalahan sosial berupa...

- a. Kerusakan Alam
 - b. Kesenjangan Sosial
 - c. Kemiskinan
 - d. Diskriminasi
 - e. Vandalisme
9. **Perhatikan artikel berikut ini!**

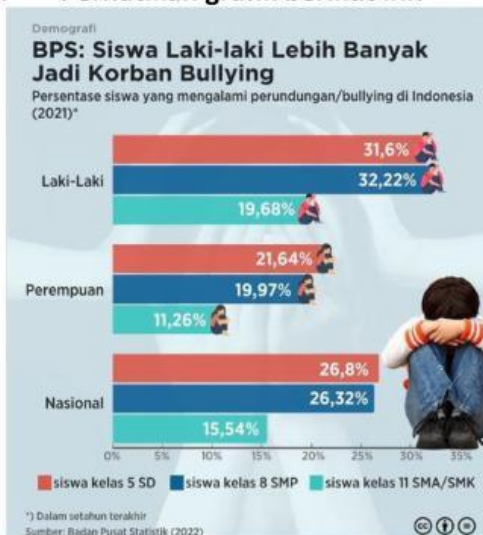
Penyalahgunaan tanaman kecubung di Banjarmasin, Kalimantan Selatan, sebagaimana video viral akhir-akhir ini, sebetulnya bukan hal baru. Kecubung sudah lama dikenal dan digunakan sebagian orang sebagai "narkoba alternatif" yang murah dan mudah didapatkan. Media sosial diduga membuat informasi tentang kecubung menyebar lagi sehingga banyak yang ingin mencobanya. Hingga Sabtu (13/07/2024) tercatat 47 orang dibawa ke Rumah Sakit Jiwa (RSJ) Sambang Lihum di Kecamatan Gambut, Kabupaten Banjar, Kalimantan Selatan. Mayoritas pasien berasal dari Kota Banjarmasin. Mereka masuk RSJ dalam waktu hampir bersamaan sejak (05/07/2024). Mereka mengalami gangguan mental karena terindikasi mengonsumsi racikan tanaman kecubung.

Sumber : [Kompas.id/apps/baca/nusantara/2024/07/13](https://kompas.id/apps/baca/nusantara/2024/07/13)

Apa jenis upaya penyelesaian masalah yang sudah dilakukan berdasarkan artikel tersebut...

- a. Rehabilitasi
- b. Persuasif
- c. Preventif
- d. Refresif
- e. Koersif

10. Perhatikan grafik berikut ini!



https://www.instagram.com/databoks.id/p/C3kYoskS5Xo/?img_index=databoks.id

Berdasarkan data pada demografi tersebut. Berapa persen angka perundungan yang terjadi pada Perempuan di Tingkat SMP...

- a. 11,26%
- b. 21,64%
- c. 26,32%
- d. 26,8%
- e. 19,97%

11. Dalam rapat OSIS SMAN 1 Tapin Selatan terjadi perdebatan antara ketua dengan sekretaris OSIS. Kemudian, salah satu guru yaitu Pak Hendro mengajak ketua dan sekretaris tersebut untuk duduk bersama mencari solusi untuk menyelesaikan perdebatan tersebut. Upaya tersebut merupakan penyelesaian konflik yang menggunakan...

- a. Konsiliasi
- b. Mediasi
- c. Negoisasi
- d. Arbitrase
- e. Ajudikasi

12. Bacalah teks berikut dengan cermat!

Judul: Luka Lama Sampit: Menapaki Jejak Konflik Etnis Berdarah

Mei 2001 menjadi bulan kelam dalam sejarah Kalimantan Tengah. Konflik etnis antara Dayak dan Madura meletus, menelan korban jiwa lebih dari 1.000 orang dan memaksa puluhan ribu orang mengungsi. Luka lama Sampit, begitu tragedi ini dikenal, masih membekas hingga hari ini.

Konflik Sampit bermula dari serangkaian peristiwa, termasuk perkelahian antar individu, isu penculikan anak, dan rasa tidak puas masyarakat Dayak terhadap pendatang Madura. Ketegangan yang menumpuk meledak menjadi kerusuhan massal yang brutal.

Peristiwa Sampit menjadi pengingat kelam tentang bahaya prasangka, diskriminasi, dan ketimpangan sosial. Konflik ini juga menunjukkan pentingnya membangun toleransi, saling menghormati, dan menyelesaikan konflik secara damai.

Tanggal: 14 Mei 2024

Sumber: BBC News Indonesia

Termasuk dalam jenis konflik apakah yang terjadi di Sampit pada artikel di atas...

- a. Konflik Politik
- b. Konflik Etnis
- c. Konflik Ekonomi
- d. Konflik Agama
- e. Konflik Internasional

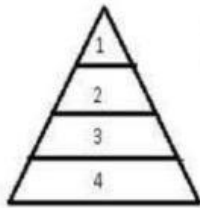
13. Pada suatu kelompok masyarakat, terdapat satu orang yang melanggar tata tertib lalu lintas. Kelompok lain beranggapan bahwa seluruh anggota kelompok tersebut tidak disiplin dalam berkendara. Anggapan akan sifat tertentu dari suatu kelompok oleh kelompok lain yang ditunjukkan pada ilustrasi di atas tersebut...

- a. Kolusi
- b. Stereotipe
- c. Dominasi
- d. Subordinasi
- e. Marginalisasi

14. Perhatikan pernyataan-pernyataan berikut. Berdasarkan teks, klik kolom **Sesuai** jika pernyataan tersebut sesuai dengan teks atau pada kolom **Tidak Sesuai** jika pernyataan tersebut tidak sesuai dengan isi teks.

	Pernyataan	Sesuai	Tidak Sesuai
(A)	Ujaran kebencian di media massa dapat meningkatkan persatuan dan kesatuan bangsa		
(B)	Kesadaran warga masyarakat sebagai bagian dari NKRI merupakan kebutuhan yang sangat urgen bagi kelestarian persatuan dan kesatuan bangsa		
(C)	Menyampaikan pendapat merupakan hak pejabat negara saja yang telah tercantum dalam UUD NRI 1945		
(D)	Sanksi yang keras harus dikenakan bagi warga negara yang secara sadar atau tidak sadar mengutarakan ujaran kebencian di muka umum		
(E)	Kebebasan berpendapat hendaknya disertai dengan penuh rasa tanggung jawab		

15. Perhatikan **bagian** berikut ini!



1. Brahmana; Pndeta
2. Ksatria; Raja, Bangsawan, ksatria
3. Waisya; Petani, Pedagangan, peternak
4. Sudra; Pekerja, Pelayan

Struktur di atas merupakan susunan lapisan masyarakat di India berupa kasta yang disebut ...

- a. Diferensiasi sosial
- b. Stratifikasi sosial
- c. Masalah sosial
- d. Kesetaraan sosial
- e. Interaksi sosial

16. Perhatikan infografik berikut untuk menjawab soal nomor 1 dan 2.



Informasi yang disampaikan pada infografik merupakan contoh...

- a. Modernisasi
- b. Pengaruh sosial
- c. Perubahan sosial
- d. Kehidupan tradisional
- e. Pengaruh media sosial

17. Berdasarkan infografik tersebut, berilah tanda (√) pada pernyataan-pertanyaan yang informasinya sesuai.

<input type="checkbox"/>	Rumah zaman dahulu terbuat dari anyaman bambu dan beratap daun kering, sedangkan rumah saat ini dibangun dari bahan campuran semen dan pasir
<input type="checkbox"/>	Anak-anak zaman dahulu lebih mengenal permainan tradisional dibandingkan anak-anak pada zaman sekarang

	Media surat menyurat merupakan sarana komunikasi jarak jauh utama bagi masyarakat, baik di zaman dahulu maupun saat ini
	Alat transportasi pada zaman sekarang lebih efisien dibandingkan alat transportasi pada zaman dahulu
	Ada perbedaan tipe pakaian yang dikenakan antara masyarakat pada zaman dahulu dan masyarakat pada zaman sekarang

18. Perhatikan pernyataan-pernyataan berikut.

- (1) Bertambah atau berkurangnya jumlah penduduk
- (2) Lingkungan fisik yang ada di sekitar manusia
- (3) Pengaruh kebudayaan lain
- (4) Pertentangan di dalam masyarakat
- (5) Terjadinya pemberontakan

Berdasarkan pernyataan-pernyataan tersebut, faktor internal yang mengakibatkan munculnya perubahan sosial ditunjukkan oleh nomor...

- a. (1), (2), dan (3)
- b. (1), (4), dan (5)
- c. (2), (4), dan (5)
- d. (2), (3), dan (5)
- e. (3), (4), dan (5)

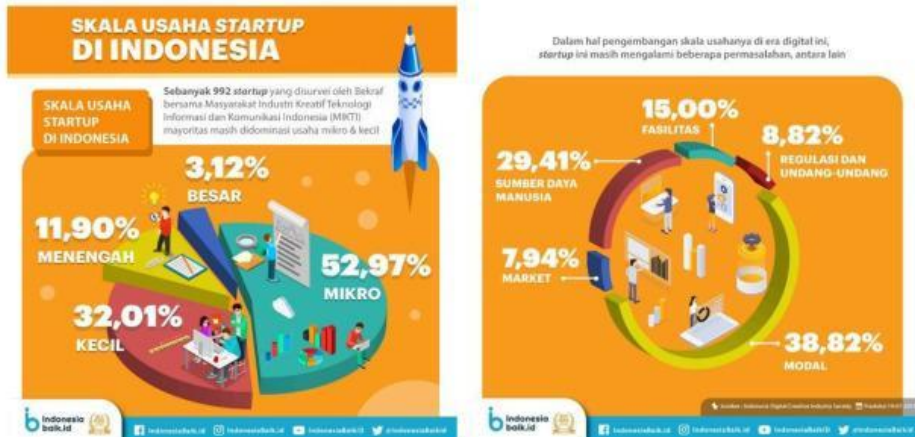
19. Perhatikan gambar berikut!



Gambar tersebut menunjukkan perubahan bentuk telepon dari masa ke masa. Hal itu menandakan bahwa telepon mengalami...

- a. Revolusi
- b. Evolusi
- c. Reformasi
- d. Modernisasi
- e. Perubahan sosial

Perhatikan infografik berikut untuk menjawab soal nomor 20 dan 21.



20. Manakah di antara pernyataan-pernyataan berikut yang **benar (B)**, **salah (S)**, dan **tidak ada (TA)** informasinya berdasarkan infografik.

No.	Pernyataan	B	S	TA
(1)	Perkembangan bisnis <i>startup</i> di Indonesia berkembang cukup pesat ditandai dengan adanya 992 <i>startup</i> lokal.			
(2)	Mayoritas <i>startup</i> di Indonesia masih didominasi oleh usaha menengah dengan presentase 11,90 persen.			
(3)	Potensi pengguna internet Indonesia yang makin naik dari tahun ke tahun merupakan faktor pendorong dalam mendirikan sebuah <i>startup</i>			
(4)	Sebanyak 38,82 persen dari <i>startup</i> yang ada menyatakan bahwa modal menjadi permasalahan utama dalam pengembangan usaha.			
(5)	Sebanyak 8,82 persen dari <i>startup</i> beranggapan bahwa permasalahan pengembangan usaha berkaitan dengan pasar.			

21. Berilah tanda centang (✓) pada jawaban yang tepat.

Beberapa permasalahan yang dihadapi oleh *startup* di Indonesia dalam pengembangan skala usaha di era digital adalah...

	Fasilitas
	Jenis barang
	Sumber daya manusia
	Permintaan dan penawaran
	Regulasi dan undang-undang

Perhatikan teks berikut untuk menjawab soal nomor 22 dan 23.

Cara Bank Indonesia Mempercepat Digitalisasi dan Keuangan Daerah

Bank Indonesia (BI) mempercepat digitalisasi keuangan dan ekonomi daerah melalui tiga cara. Hal tersebut disampaikan dalam Rapat Koordinasi Nasional Tim Percepatan dan Perluasan Digitalisasi Daerah (TP2DD) dengan tema “Transformasi Digitalisasi Daerah untuk Mempercepat Indonesia Maju 2045” pada Selasa (3/10/2023). Gubernur Bank Indonesia mengatakan, hal pertama yang dilakukan adalah digitalisasi di bidang sistem pembayaran.

“QRIS sekarang sudah 37 juta pengguna. Sekitar 30 juta adalah UMKM. Dengan QRIS kita menyejahterakan rakyat,” kata dia. Ia menambahkan, saat ini layanan QRIS Tuntas dapat digunakan untuk tarik tunai dan setor tunai. QRIS juga telah terhubung dengan Kartu Kredit Indonesia.

Cara kedua dilakukan Bank Indonesia adalah dengan memperluas layanan Kartu Kredit Indonesia. Ia menyebut, hal ini sangat bergantung pada pengaturan tata kelola Kementerian Dalam Negeri (kemendagri) sampai pemerintah daerah. Merchant yang menggunakan Kartu Kredit Indonesia mendapatkan bunga yang sangat murah yakni 1,3 persen.

“Kartu Kredit Indonesia telah kami sambungkan dengan QRIS. Kami juga menyambungkannya dengan BI *fast payment*. Sebentar lagi *fast payment* kami sambungkan dengan Gerbang Pembayaran Nasional (GPN),” imbuh dia.

Terakhir, ia mengungkapkan pihaknya akan melakukan digitalisasi yang *end-to-end*. Digitalisasi di layanan perbankan sekarang sudah mencapai Rp14.000 triliun sedangkan penggunaan uang elektronik Rp111 triliun.

“Dan terus meningkat. Mari kita bersinergi meningkatkan digitalisasi Indonesia,” tandasnya.

Sumber: *kompas.com*

22. Berdasarkan teks tersebut, cara pertama yang dilakukan Bank Indonesia untuk mempercepat digitalisasi keuangan dan ekonomi daerah adalah dengan menerapkan...
- BI *Fast*
 - QRIS
 - End-to-end*
 - Kredit
 - Payment later*

23. Berdasarkan teks tersebut, berikan tanda centang (*v*) pada kolom yang tepat.

Pernyataan	Benar	Salah
Bank Indonesia (BI) mempercepat digitalisasi keungan dan ekonomi daerah melalui empat cara.		
QRIS sekarang sudah 37 juta pengguna. Sekitar 30 juta adalah UMKM.		
Kartu Kredit Indonesia tidak bisa kami sambungkan dengan QRIS		
Digitalisasi di bidang layanan perbankan sekarang sudah mencapai Rp14.000 triliun sedangkan penggunaan uang elektronik RP111 triliun.		
Merchant yang menggunakan Kartu Kredit Indonesia mendapatkan bunga yang sangat murah yakni 1,3 persen.		

24. Perhatikan ilustrasi berikut.

Sani adalah pemilik usaha baju anak yang menjual produk-produknya melalui *marketplace*. Ia menyediakan pilihan metode pembayaran digital dan menggunakan aplikasi jasa pengiriman barang dalam menjalankan bisnisnya sehingga memudahkan konsumennya melakukan transaksi pembelian. Sani juga merasa lebih mudah dalam mengelola usahanya tersebut karena ia bisa mengakses toko dan jasa-jasa terkait kapan saja dan di mana saja melalui telepon pintar miliknya.

Ilustrasi tersebut menggambarkan globalisasi yang didorong oleh faktor...

- Mengglobalnya pasar uang
- Masyarakat yang makin konsumtif
- Kemajuan ilmu pengetahuan dan teknologi
- Makin terbukanya sistem perekonomian negara-negara di dunia
- Dominasi budaya negara maju terhadap budaya negara berkembang

25. Perhatikan teks berikut.

Modus baru penipuan dalam dunia digital terus berkembang. Kali ini muncul modus penipuan menggunakan tombol aksi (*action button*) melalui aplikasi kirim pesan. Seperti modus pengiriman file berekstensi *android package kit* (APK) sebelumnya, modus baru penipuan ini juga mengincar data pribadi dari korbannya.

Sumber: *kompas.com*

Kondisi tersebut menunjukkan gejala masalah sosial berupa...

- Ketertinggalan budaya
- Neokolonialisme
- Kejahatan siber (*cybercrime*)
- Konsumerisme
- Kemiskinan

26. Berikut ini adalah contoh orang-orang yang mudah menerima perubahan.

- Orang yang berpendidikan tinggi
- Orang-orang transisi berkepentingan
- Pengikut aliran sektarian
- Orang yang berkepentingan (*vested interest*)

Jawaban yang benar dari pernyataan-pernyataan di atas adalah nomor...

- 1 dan 2
- 1 dan 3
- 1 dan 4
- 2 dan 3
- 2 dan 4

27. Bacalah kutipan berikut dengan seksama, lalu jawablah soal yang mengikuti!

Kearifan lokal adalah pengetahuan atau kebijaksanaan yang dimiliki oleh masyarakat lokal, yang turun-temurun diwariskan secara lisan atau melalui praktek kehidupan sehari-hari. Dalam kearifan lokal, sering kali terkandung nilai-nilai moral yang berhubungan dengan hubungan antara manusia dengan alam, serta manusia dengan sesama. Salah satu contoh kearifan lokal di Indonesia adalah filosofi hidup "Tri Hita Karana" dari Bali, yang mengajarkan pentingnya keseimbangan antara hubungan manusia dengan Tuhan, manusia dengan sesama, dan manusia dengan alam sekitar.

Berdasarkan kutipan di atas, yang termasuk dalam contoh kearifan lokal adalah...

- a. Membagi rezeki dengan cara yang adil kepada sesama.
- b. Mengutamakan keseimbangan hubungan antara manusia, Tuhan, dan alam.
- c. Menjalin hubungan internasional dengan negara-negara lain.
- d. Menjaga kekayaan alam dengan cara menebang pohon secara selektif.
- e. Menggunakan teknologi untuk mempercepat proses pertanian.

28. Bacalah teks berikut dengan cermat dan jawab pertanyaannya!

Di masyarakat adat suku Dayak, ada tradisi "Menyunting" yang dilaksanakan setiap tahun sebagai bentuk rasa syukur terhadap hasil bumi. Tradisi ini dilakukan dengan menyembelih hewan sebagai persembahan kepada roh leluhur dan sebagai tanda terima kasih atas hasil alam yang melimpah. Dalam tradisi ini, masyarakat juga berdoa agar alam tetap memberi mereka kehidupan yang sejahtera.

Apa nilai yang terkandung dalam tradisi "Menyunting" yang dilakukan oleh masyarakat adat Dayak?

- a. Memupuk semangat gotong royong antarwarga.
- b. Memperkuat hubungan dengan alam dan leluhur.
- c. Menghargai hasil pertanian dengan cara berkomunikasi dengan pemerintah.
- d. Mengutamakan keberhasilan individu daripada kelompok.
- e. Mendorong penggunaan teknologi dalam pertanian.

29. Simak teks berikut, lalu pilih jawaban yang tepat!

Di daerah Jawa Tengah, terdapat tradisi "Sekaten" yang dilaksanakan setiap tahun sebagai bagian dari perayaan Maulid Nabi Muhammad SAW. Tradisi ini tidak hanya berupa acara keagamaan, tetapi juga disertai dengan berbagai pertunjukan seni, seperti gamelan, wayang kulit, dan bazar. Sekaten menjadi ajang untuk mempererat hubungan antarwarga dan memperkenalkan budaya Jawa kepada generasi muda.

Tradisi "Sekaten" di Jawa Tengah mengandung nilai...

- a. Merayakan kemenangan negara atas musuh.
- b. Memperkenalkan seni dan budaya kepada generasi muda.
- c. Menumbuhkan semangat persaingan antarwarga.
- d. Menyebarkan ilmu pengetahuan melalui bazar.
- e. Meningkatkan kesadaran akan pentingnya agama saja.

30. Dalam pemberdayaan komunitas, sebuah program pelatihan diharapkan dapat meningkatkan kemampuan ekonomi masyarakat. Jika pada tahun pertama, 30% dari 200 keluarga yang mengikuti pelatihan berhasil meningkatkan pendapatannya, berapa jumlah keluarga yang mengalami peningkatan pendapatan?
- a. 50 keluarga
 - b. 60 keluarga
 - c. 70 keluarga
 - d. 75 keluarga
 - e. 80 keluarga