

	<p>UNIDAD EDUCATIVA "ISABEL ROBALINO"</p> <p> BANCO DE PREGUNTAS – ESTUDIOS SOCIALES 7° E.G.B.</p> <p>Segundo Trimestre 2024 - 2025</p>		
		PÁGINAS:	1 de 6

Cuestionario de Estudio Sociales

1. Selección Múltiple

A) ¿En qué año llegaron Sucre y sus soldados a Quito?

- a) 1822
- b) 1832
- c) 1802

B) ¿Cuáles eran los países que formaban la Gran Colombia?

- a) Venezuela, Colombia y Argentina
- b) Venezuela, Colombia y Ecuador
- c) Venezuela, Colombia y Chile

C) ¿Cómo se llama la batalla en la que se enfrentó el ejército de Sucre y los realistas en Riobamba?




- a) Pichincha
- b) Tapi
- c) Tarqui

D) ¿En qué año se fundó la República de Colombia?

- a) 1839
- b) 1819
- c) 1829

E) ¿Quién era el presidente de la Gran Colombia?

- a) Antonio José de Sucre
- b) Simón Bolívar
- c) Juan José Flores

	<p align="center">UNIDAD EDUCATIVA "ISABEL ROBALINO"</p> <p align="center"> BANCO DE PREGUNTAS – ESTUDIOS SOCIALES 7° E.G.B.</p> <p align="center">Segundo Trimestre 2024 - 2025</p>	<div>  Ministerio de Educación </div> <div> PÁGINAS: 2 de 6 </div>	
---	--	--	--

F) ¿Qué representó la "Venta de la Bandera" para el Ecuador?

- a) La pérdida de soberanía naval
- b) Una estrategia económica para fortalecer el comercio
- c) Una decisión política para unirse a la Gran Colombia

G) ¿En qué año se anexaron las Islas Galápagos al Ecuador?

- a) 1832
- b) 1822
- c) 1842

H) ¿Cuál fue uno de los efectos del auge cacaotero en la Costa ecuatoriana?

- a) Incrementó la migración hacia las ciudades
- b) Estimuló la explotación minera
- c) Provocó un descenso poblacional en la Sierra

I) ¿Reformas de la Gran Colombia?

- a) Derecho a la salud.
- b) Derecho a la libertad de expresión.
- c) Derecho a la libertad.
- d) Derecho a la educación.

J) ¿A qué distrito de la Gran Colombia pertenecía el Ecuador?




- a) Sur
- b) Este
- c) Norte
- d) Centro

K) ¿Quién no pertenece a la clase social baja?

- a) Esclavos
- b) Comerciantes
- c) Indígenas
- d) Campesinos

L) ¿Año en que llega a su fin la Gran Colombia?

- a) 1830
- b) 1828
- c) 1832
- d) 1835

	<p align="center">UNIDAD EDUCATIVA “ISABEL ROBALINO”</p> <p align="center"> BANCO DE PREGUNTAS – ESTUDIOS SOCIALES 7° E.G.B.</p> <p align="center">Segundo Trimestre 2024 - 2025</p>	<div>  <div>Ministerio de Educación</div> </div> <div> PÁGINAS: </div> <div> 3 de 6 </div>	
---	--	---	--

2. Relacione las siguientes afirmaciones con Verdadero (V) o Falso (F):

- A) A finales del siglo XVIII, durante la época colonial, se llevó a cabo un censo poblacional. ()
- B) Charles Darwin visitó Galápagos en 1835. ()
- C) En la región Sierra se asentaba el 93% de la población. ()
- D) El auge comercial cacaotero tuvo como consecuencia el decreciente poblacional en la Costa. ()
- E) ¿El geólogo alemán Theodoro Wolf nunca visitó el Ecuador? ()
- F) El único censo registrado en Ecuador fue en 1780. ()
- G) La "Venta de la Bandera" implicó la participación del Ecuador en un conflicto extranjero. ()
- H) Las Islas Galápagos fueron anexadas durante el mandato de Juan José Flores. ()




3. Complete los enunciados con las palabras del recuadro:

Cuenca	Azuay	Distrito	Departamentos	Nuevo	Independiente
--------	-------	----------	---------------	-------	---------------

- Cuando el _____ del Sur se separó de la Gran Colombia, los _____ de Quito, Guayaquil y _____ se unieron y planificaron la formación de un _____ país, cuyo objetivo era la construcción de una nación _____.

4. Lea los siguientes enunciados y en los espacios en blanco complete con las palabras del recuadro sobre el inicio de la República del Ecuador.

- A) Se reunieron en _____ representantes de Guayaquil, Manabí, Loja, Cuenca, Chimborazo y Pichincha.
- B) Para conformar el primer Congreso del país y redactar la _____ de 1830.
- C) En la constitución se establecieron leyes para los ciudadanos, _____ y para el presidente del Estado.
- D) Se declaró el _____ como religión oficial del país.

	UNIDAD EDUCATIVA "ISABEL ROBALINO"  BANCO DE PREGUNTAS – ESTUDIOS SOCIALES 7° E.G.B. Segundo Trimestre 2024 - 2025	 Ministerio de Educación	
		PÁGINAS:	4 de 6

E) Se eligió al general _____ como presidente del Estado.

catolicismo	Riobamba	Juan José Flores	diputados	Constitución	Vicente Rocafuerte
-------------	----------	------------------	-----------	--------------	--------------------

5. Pinte la respuesta correcta:

- Los territorios adheridos a Ecuador fueron reclamados por Colombia y Perú.

(Verdadero / Falso)

- El departamento de Guayas ocupaba toda la región de la Costa.

(Verdadero / Falso)

- El departamento de Quito correspondía a la zona norte y centro de la región Sierra, y por Imbabura, Pichincha y Chimborazo.

(Verdadero / Falso)

- El departamento de Azuay estaba formado por la parte sur de la región Sierra y parte de la Amazonía.

(Verdadero / Falso)

- En 1832 se incorporó al Ecuador el archipiélago de Galápagos.

(Verdadero / Falso)

6. Lea la información y complete con las palabras del recuadro.




CONSTITUCIÓN DE 1830

A. Se declaró el _____ como religión oficial del país.

B. En la constitución se establecieron leyes para los ciudadanos, _____ y para el presidente del Estado.

C. Se reunió en _____ representantes de varias provincias para redactar la Constitución de 1830.

Riobamba	Catolicismo	Diputados
----------	-------------	-----------

	UNIDAD EDUCATIVA “ISABEL ROBALINO”  BANCO DE PREGUNTAS – ESTUDIOS SOCIALES 7° E.G.B. Segundo Trimestre 2024 - 2025	 Ministerio de Educación
		PÁGINAS: 5 de 6




DELIMITACIÓN DE TERRITORIOS.

- A) Territorios adheridos a Ecuador eran reclamos por Colombia y _____.
- B) El departamento de Guayas ocupaba toda la región de la _____.
- C) El departamento de Quito correspondía a la zona norte y centro de la región Sierra, y por Imbabura, Pichincha y _____.
- D) El departamento de Azuay estaba formado por la parte sur de la región Sierra y parte de la _____.
- E) En 1832 se incorporó al Ecuador el archipiélago de _____.

Costa	Galápagos	Amazonía	Perú	Chimborazo
--------------	------------------	-----------------	-------------	-------------------

7. Escriba (V) si es verdadero o (F) si es falso (F) según corresponda cada enunciado, sobre la población del Ecuador a finales del siglo XVIII.

Nº	PREGUNTAS	V-F
A)	¿La población total del Ecuador era de 1 424 037 habitantes?	
B)	¿A finales del siglo XVIII, durante la época colonial, se llevó a cabo un censo poblacional?	
C)	¿Charles Darwin visitó Galápagos en 1835?	
D)	¿En la región Sierra se asentaba el 7% de la población?	
E)	¿Se impulsó un cambio político que rechazara todo lo que tenía que ver con la Colonia?	
F)	¿Los Terratenientes, indígenas, afrodescendientes, comerciantes, obispos y sacerdotes pertenecían a la denominada clase social alta?	

	UNIDAD EDUCATIVA “ISABEL ROBALINO”  BANCO DE PREGUNTAS – ESTUDIOS SOCIALES 7° E.G.B. Segundo Trimestre 2024 - 2025	 Ministerio de Educación
		PÁGINAS: 6 de 6

G)	¿Juan José Flores se casó con Mercedes Jijón, aristócrata ecuatoriana?	
H)	¿El mayordomo era el propietario de grandes territorios?	
I)	¿En las clases sociales bajas, se encontraban los indígenas, los afrodescendientes y parte de la población mestiza?	

8. Relacione con líneas según corresponda a cada enunciado, sobre la plutocracia en el Ecuador.

Características

La burguesía costeña influenciada gracias a la exportación cacaotera.

Crisis cacaotera

Produjo una nueva sublevación de las montoneras, trabajadores y obreros.

La monilla y escoba de brujas perjudicó la producción.

Período plutocrático

Incrementó la migración hacia las ciudades costeñas.

El estado dependía de los créditos otorgados por el Banco Comercial y Agrícola.

9. Preguntas abiertas:

1. ¿Considera importante enseñar ética en las instituciones educativas? Explique.

2. Escriba un ejemplo práctico de cómo aplicar la inclusión en el aula.
