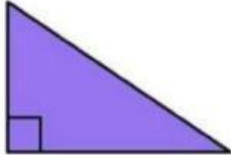


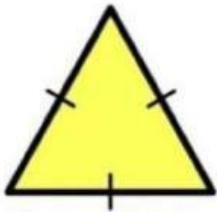
# LKPD SEGITIGA



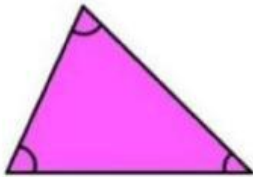
1. Pasangkan gambar-gambar segitiga dibawah dengan pengertiannya yang sesuai.



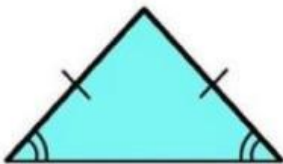
Segitiga yang besar sudutnya kurang dari  $90^\circ$ .



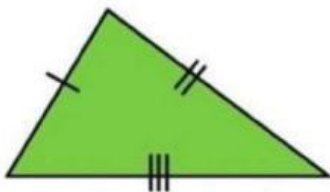
segitiga yang memiliki dua sisi yang sama panjangnya.



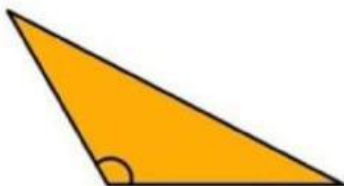
segitiga yang ketiga sisinya sama panjang.



Segitiga dengan ketiga sisinya tidak sama panjang serta sudut-sudutnya tidak sama besar.



segitiga yang salah satu sudutnya merupakan sudut siku-siku ( $90^\circ$ ).



Segitiga yang salah satu dari tiga sudutnya mempunyai besar sudut antara  $90^\circ$  -  $180^\circ$ .