




HOJA DE TRABAJO # 1

Tema: Productos Notables (Suma y diferencias del cuadrado de un binomio)

Resuelva los siguientes productos notables, en los cuadrados escriba los coeficientes y variables, en los pentágonos los exponentes y en los círculos los signos:

1. $(x + y)^2 =$ 

2. $(4xy - 6n)^2 =$ 

3. $(3m + n)^2 =$ 

4. $(x - 2k)^2 =$ 