

SOAL INSTRUMENTS TEST


A. Perhatikan video pembelajaran di bawah ini!



B. Kerjakan Soal Berikut Ini !


1. Apakah nama bangun datar dibawah ini ?

- a. Persegi
- b. Lingkaran
- c. Segitiga
- d. Trapesium



2. Apakah nama bangun datar dibawah ini ?

- a. Trapesium
- b. Segitiga kaki lima
- c. Persegi panjang
- d. Lingkaran



3. Bangun datar yang dibentuk oleh dua pasang sisi yang masing-masing sama panjang dan sejajar serta memiliki 4 buah sudut berbentuk siku-siku disebut

- a. Lingkaran
- b. Segitiga
- c. Persegi
- d. Persegi panjang

4. Bangun datar yang dibentuk oleh tiga sisi yang masing-masing sama panjang serta memiliki 3 buah sudut berbentuk siku-siku disebut

- a. Segitiga
- b. Lingkaran
- c. Persegi
- d. Layang-layang

5. Buatlah garis jawaban yang benar !



Lingkaran



Belah Ketupat

6. Buatlah garis jawaban yang benar !



Persegi Panjang



Segitiga



Trapesium

7. Buatlah garis jawaban yang benar !



Persegi Lima



Persegi



Jajar Genjang

8. Tariklah rumus yang sesuai dengan datar berikut !



$$L = S \times S$$

$$L = P \times L$$

$$t = \frac{1}{2} \times a \times t$$

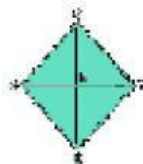
9. Tariklah rumus yang sesuai dengan datar berikut !



$$L = \frac{1}{2} \times t \times (a+b)$$

$$L = \frac{1}{2} \times a \times t$$

10. Tariklah rumus yang sesuai dengan datar berikut !



$$L = a \times t$$

$$L = \frac{1}{2} \times d_1 \times d_2$$