

EXÁMENES




PRIMER GRADO

Práctica: N°1

Profesor: Luis Enrique Lazo Vásquez

1.- ¿Cuántos lados tiene el triángulo?



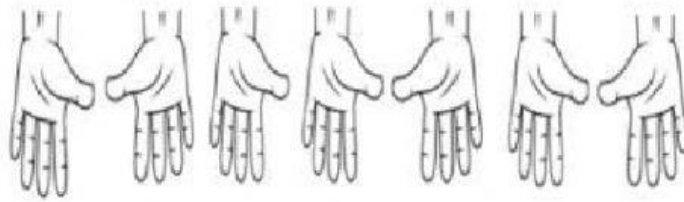
Respuesta:

2.- ¿Cuántas pelotas hay al lado derecho de la niña?



Respuesta:

3.- ¿Cuántas manos derechas observas?



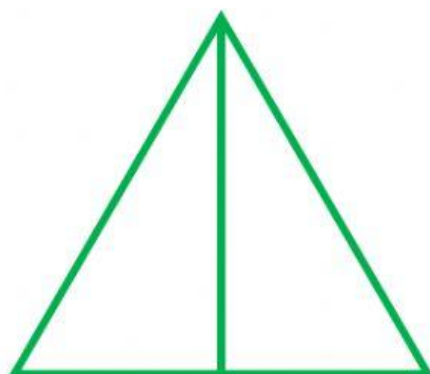
Respuesta:

4.- ¿Cuántas puntos negros vez en el dado?



Respuesta:

5.- ¿Cuántos triángulos observas en la siguiente figura?



Respuesta:

6.- Escribe el consecuente:

; 14 ;

Respuesta:

7.- ¿Qué número continúa en la serie?

1 ; 3 ; 5 ; 7 ;

Respuesta:

8.- ¿Cuánto suman los puntos visibles del dado?



Respuesta:

9.- ¿Cuál es el mayor?

12 **□** **15**

Respuesta:

10.- Resolver la suma:

$$**14 + 15 =**$$