



PEMERINTAH KABUPATEN BONE
DINAS PENDIDIKAN
KECAMATAN TELLU SIATTINGE



ASESMEN SUMATIF

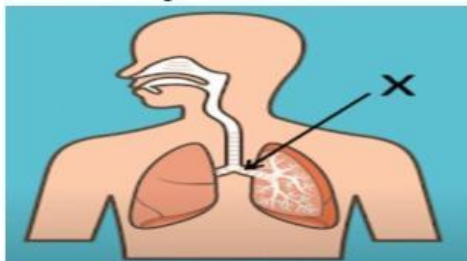
Mata Pelajaran : IPAS

Nama : Kelas :

I. Berikan tanda silang (x) pada jawaban yang benar !

1. Organ pernapasan yang berfungsi menyaring kotoran dari luar dan menghangatkan udara yang masuk ke tubuh yaitu.....
 - a. Hidung
 - b. Bronkus
 - c. Faring
 - d. Laring
2. Udara yang dihirup masuk ke rongga hidung, kemudian menuju
 - a. laring
 - b. faring
 - c. alveolus
 - d. bronkiolus

Perhatikan gambar berikut!



3. Bagian organ pernapasan yang ditunjukkan oleh huruf X yaitu...
 - a. faring
 - b. laring
 - c. bronkus
 - d. trakea
4. Tempat terjadinya pertukaran oksigen dan karbon dioksida pada paru-paru manusia disebut....
 - a. Alveolus
 - b. Bronkiolus
 - c. Faring
 - d. Trakea

5. Gangguan pernapasan yang disebabkan oleh virus dan mudah sekali menular disebut.....
- asma
 - influenza
 - bronkitis
 - TBC

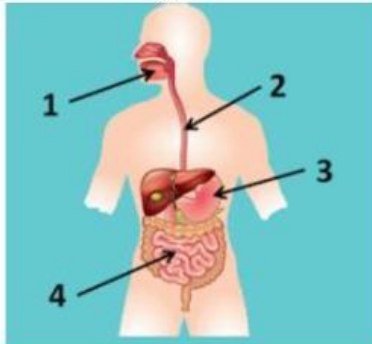
6. Perhatikan organ berikut!

- 1) Mulut
- 2) Tenggorokan
- 3) Kerongkongan
- 4) Jantung
- 5) Lambung

Organ-organ pencernaan manusia ditunjukkan oleh pernyataan nomor ...

- 1, 2, dan 5
- 1, 2, dan 4
- 1, 3, dan 4
- 1, 3, dan 5

7. Perhatikan gambar di bawah!



Gambar nomor 2 disebut....

- Mulut
- Kerongkongan
- Lambung
- Anus

8. Ririn selalu sarapan dengan makanan yang bergizi. Organ tubuh Ririn yang bertugas untuk menyerap sari-sari makanan tersebut yaitu . . .
- Lambung
 - Usus halus
 - Usus besar
 - Anus

9. Perhatikan gambar di bawah!



Organ pencernaan manusia yang ditunjukkan oleh tanda panah berfungsi untuk . . .

- A. Tempat keluarnya tinja
- B. Menghancurkan karbohidrat
- C. Menyerap sari-sari makanan
- D. Menyerap air dalam sisa makanan

10. Organ yang merupakan pintu terakhir dari sistem pencernaan manusia dan sebagai tempat keluarnya tinja yaitu. . .

- A. Anus
- B. Lambung
- C. Rektum
- D. Usus halus

11. Adit suka makan buah-buahan seperti jeruk, apel, dan pepaya. Makanan tersebut banyak mengandung. . .

- A. Karbohidrat
- B. Lemak
- C. Vitamin
- D. Protein

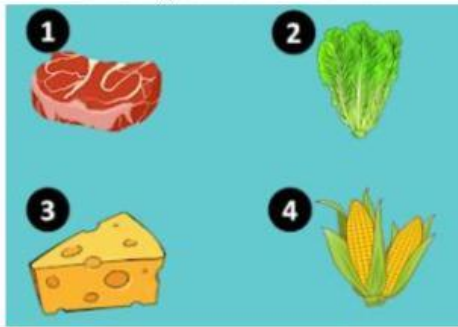
12. Perhatikan gambar di bawah!



Riana bingung untuk memilih menu makanan. Ibu Riana berpesan agar dia memakan makanan yang paling sehat. Riana harus memilih. . .

- A. makanan A karena tidak mengandung protein
- B. makanan B karena tidak mengandung vitamin
- C. makanan A karena kandungan nutrisi seimbang
- D. makanan B karena kandungan nutrisi seimbang

13. Perhatikan gambar di bawah!



Tiyas membuka kulkas, kemudian melihat makanan-makanan seperti gambar di atas. Makanan yang harus dimakan Tiyas agar mendapat banyak karbohidrat ditunjukkan oleh nomor ...

- A. 1
- B. 2
- C. 3
- D. 4

14. Tiara mengalami gangguan pencernaan karena makan makanan yang tidak bersih. Gejala yang dialami Tiara yaitu perut terasa mulas, tinja encer (buang air besar cair), pusing, lemas, dan kulit kering. Gangguan pencernaan Tiara yaitu. . .

- A. Maag
- B. Tukak lambung
- C. Diare
- D. Sembelit

15. Perhatikan gambar di bawah!



Agar hidup lebih sehat, kita dapat mengikuti pola asupan nutrisi seperti piramida panduan makanan sehat di atas. Berikut ini pernyataan yang sesuai dengan piramida tersebut yaitu dari 100% makanan yang kita makan, sebaiknya

- A. 5% mengandung karbohidrat
- B. 20% mengandung protein
- C. 35% mengandung mineral
- D. 40% mengandung lemak

16. Siklus pertumbuhan yang dialami oleh manusia pada usia 10 tahun hingga 17 tahun yaitu...

- A. Masa anak-anak
- B. Masa balita
- C. Masa remaja
- D. Masa dewasa

17. Perhatikan tabel berikut!

No	Siklus Pertumbuhan
1	Masa Manula
2	Masa Remaja
3	Masa Balita
4	Masa Dewasa
5	Masa Anak-anak

Urutan siklus pertumbuhan yang dialami manusia dari awal hingga akhir kehidupannya yaitu

- A. 5, 3, 4, 2, dan 1
- B. 3, 5, 2, 4, dan 1
- C. 5, 3, 2, 4, dan 1
- D. 3, 5, 4, 2, dan 1

18. Perhatikan gambar di bawah!



Perubahan yang terjadi pada seseorang yang ada di gambar tersebut sesuai siklus pertumbuhannya yaitu. . .

- A. Pinggul membesar
- B. Suara kecil dan lembut
- C. Persendian kaku
- D. Jakun membesar

19. Perubahan yang terjadi pada seseorang perempuan sesuai siklus pertumbuhannya yaitu. . .

- A. Menstruasi/Haid
- B. Suara kecil dan lembut
- C. Persendian kaku
- D. Jakun membesar

20. Perhatikan gambar di bawah!



Ciri-ciri siklus pertumbuhan pada gambar di atas yaitu. . .

- A. rasa ingin tahu yang besar
- B. dada menjadi lebar
- C. berkurangnya pendengaran
- D. mengucapkan satu kata dan berteriak