
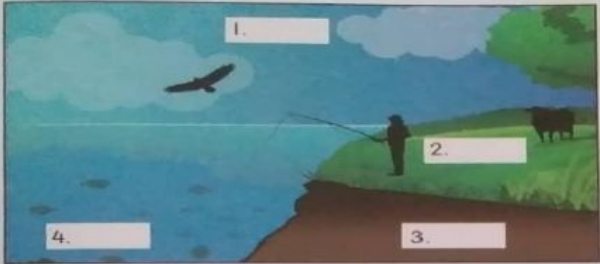


BAB 5 : BUMI
GEOGRAFI TINGKATAN 1
SMK SOOK

1. Rujuk buku teks muka surat 44 hingga 47

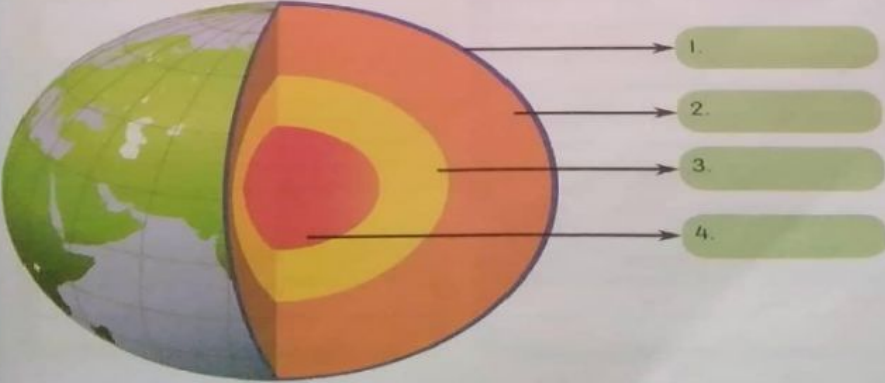
 **Cabaran Prestasi**

A. Namakan empat sistem fizikal bumi berdasarkan rajah di bawah. Lengkapkan jadual berkaitan maklumat keempat-empat sistem tersebut.



1.	
2.	
3.	
4.	

B. Namakan keempat-empat lapisan struktur bumi pada rajah di bawah berserta ciri-cirinya.



1.	
2.	
3.	
4.	

C. Namakan benua, lautan, laut utama dan selat pada peta dunia di bawah.

Benua

B1. _____

B2. _____

B3. _____

B4. _____

B5. _____

B6. _____

B7. _____

Lautan

L1. _____

L2. _____

L3. _____

L4. _____

L5. _____

Laut Utama

LU1. _____

LU2. _____

Selat

S1. _____

S2. _____

2. Sila rujuk buku teks muka surat 46 dan 47.

• Namakan benua, lautan, laut dan selat berdasarkan pernyataan yang diberi. Pilihan jawapan disediakan.

Pernyataan	Jawapan
(a) Benua yang paling mendatar di dunia	
(b) Lautan yang bersempadan dengan Benua Asia, Afrika dan Australia	
(c) Merangkumi perairan dari Selat Melaka hingga ke Selat Taiwan	
(d) Selat yang terpanjang di dunia	