



TRƯỜNG MẦM NON MAI LÂM

# PHIẾU BÀI TẬP TOÁN

**KHỐI MGN 4 - 5 TUỔI**

**Tách gộp trong phạm vi 3**





POP.EDU.VN





**LIVEWORKSHEETS**


Bé hãy đếm các quả táo trên cây rồi gắn thẻ số tương ứng nhé!





Bé hãy thêm số lượng quả sao cho tương ứng với thẻ số nhé!





Bé hãy kéo thả để tách nhóm số lượng 3 thành 2 phần theo ý thích và ghi kết quả tách nhé.





**Bé hãy điền số thích hợp vào ô trống tương ứng với số lượng của từng nhóm nhé!**



**Bé hãy điền số thích hợp vào ô trống tương ứng với số lượng của từng nhóm nhé!**



**Bé hãy nối gộp các nhóm với nhau để tạo thành nhóm có số lượng 3**



**Bé hãy nối gộp các nhóm với nhau để tạo thành nhóm có số lượng 3**

