

## EVALUACION DE CIENCIAS NATURALES

NOMBRE:..... CURSO: 8º grado

FECHA:

PUNTAJE IDEAL: 10 puntos. NOTA

1. Escribo una V si la afirmación es verdadera o una F si es falsa. (2 ptos.)

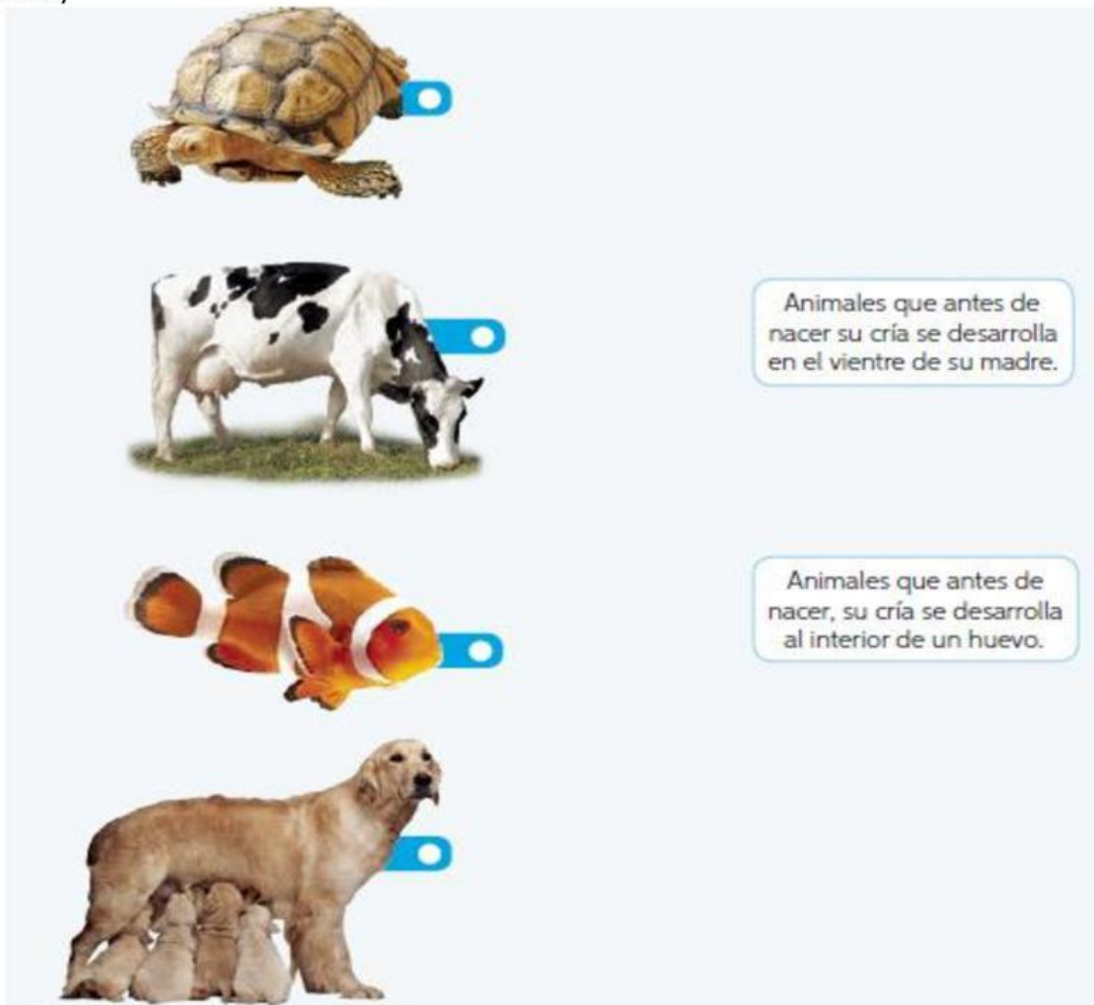
a. \_\_\_\_\_ El agua es un componente sin vida de la naturaleza.

b. \_\_\_\_\_ Los seres vivos no crecen.

c. \_\_\_\_\_ Los seres vivos se desarrollan a lo largo de su vida.

d. \_\_\_\_\_ Las plantas y los animales necesitan agua para vivir.

2. Uno con una línea a los animales con su modo de reproducción según corresponda. (2ptos.)




Animales que antes de nacer su cría se desarrolla en el vientre de su madre.

Animales que antes de nacer, su cría se desarrolla al interior de un huevo.

3. Marco con una los elementos que necesitan las plantas para vivir.(1 ptos.)



4. Ordena las secuencias de imágenes del 1 al 4. Considerando el desarrollo de un ser vivo (1 ptos.)




5. Une con una línea la imagen de cada animal con su alimento.(3 ptos)



Plantas



Plantas y animales



Otros animales

6. ¿Cuál de estos seres vivos NO es un animal?( 1 puntos)



A.- La estrella de mar



B.- una alga



C.- Un erizo