

Universidad especializada de las Américas
Maestría en dificultades en el aprendizaje de la matemática
Informática educativa

Profesor: Eduardo Quintero






Estudiante: Noriel Guardado

III cuatrimestre

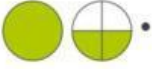







Asignación: Uso de liveworksheets como herramienta para crear fichas interactivas.

Tema: **Las fracciones Impropias**

Indicación. Completa la fracción y escribe si es propia, impropia o igual a la unidad

	$\frac{\quad}{5}$	<input type="text"/>
	$\frac{\quad}{5}$	<input type="text"/>
	$\frac{4}{\quad}$	<input type="text"/>
	$\frac{6}{\quad}$	<input type="text"/>
	$\frac{9}{\quad}$	<input type="text"/>

II Parte. Dada la figura representativa y la fracción

- A  • • $\frac{5}{12}$
- B  • • $\frac{6}{9}$
- C  • • $\frac{9}{6}$
- D  • • $1\frac{2}{4}$
- E  • • $\frac{3}{5}$
- F  • • $2\frac{1}{3}$
- G  • • $\frac{8}{7}$
- H  • • $\frac{4}{9}$