




POLÍGONOS: ELEMENTOS Y TIPOS.

1. Marca las figuras que sean **POLÍGONOS**:

POLÍGONO: Es una figura plana con todos sus bordes rectos.


☐

☐

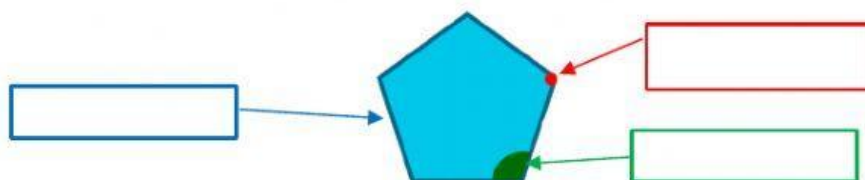
☐

☐

☐

☐

2. Indica los elementos de un polígono:



3. Completa los datos que faltan de esta tabla como en el ejemplo:



lados




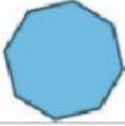



vértices



ángulos

AYUDA

FIGURA	NÚMERO DE LADOS	NÚMERO DE VÉRTICES	NÚMERO DE ÁNGULOS	NOMBRE
	<input type="text" value="6"/>	<input type="text" value="6"/>	<input type="text" value="6"/>	<input type="text" value="HEXÁGONO"/>
	<input type="text"/>	<input type="text"/>	<input type="text"/>	<input type="text"/>
	<input type="text"/>	<input type="text"/>	<input type="text"/>	<input type="text"/>
	<input type="text"/>	<input type="text"/>	<input type="text"/>	<input type="text"/>
	<input type="text"/>	<input type="text"/>	<input type="text"/>	<input type="text"/>