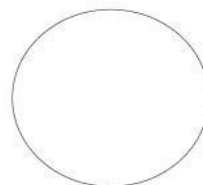











Prueba de Ciencias Naturales N°1



Nombre: _____	Puntaje Total	41 puntos
Curso: 1° ____ Fecha: ____ / 03 / 2018	Puntaje Obtenido	
Objetivo: Reconocer características y diferencias de los seres vivos y materia inerte. Necesidades básicas de plantas y animales. Ciclo de vida de los seres vivos.		

Ítem 1: Lee atentamente cada enunciado y marca con una X la alternativa correcta. (6 puntos)


<p>1. ¿Cuál de las siguientes imágenes corresponde a un ser vivo?</p> <p>a)  b)  c) </p>	<p>2. ¿Cuáles son las necesidades de los seres vivos?</p> <p>a) Alimento b) Alimento y agua c) Alimento, agua y aire</p>
<p>3. Los animales son seres vivos porque:</p> <p>a) Nacen, crecen y mueren. b) Nacen, crecen y se reproducen. c) Nacen, crecen, se reproducen y mueren.</p>	<p>4. ¿Cuál de las siguientes imágenes corresponde a un elemento inerte?</p> <p>a)  b)  c) </p>
<p>5. En la siguiente imagen ¿Qué etapa del ciclo de la vida se muestra?</p> <p>a) Muerte b) Nacimiento c) Ninguna es correcta</p> 	<p>6. Los seres vivos son:</p> <p>a) Solo plantas b) Solo animales c) Plantas, animales y personas</p>


Ítem 2: Los siguientes dibujos corresponden al ciclo de vida de una planta. ¿Cuál es el orden correcto de desarrollo de la planta? Enumera del 1 al 4. (4 puntos).





Ítem 3: Diferencias entre los seres vivos y elementos inertes. (6 puntos).

1. En los recuadros dibuja un ser vivo y un elemento inerte.






2. Marca con una X las características que correspondan a seres vivos y materia inerte. (4 puntos)

		
Se desplaza por sí solo	<input type="checkbox"/>	<input type="checkbox"/>
Crece	<input type="checkbox"/>	<input type="checkbox"/>
Es un ser vivo	<input type="checkbox"/>	<input type="checkbox"/>
Es materia inerte	<input type="checkbox"/>	<input type="checkbox"/>

Ítem 4: Observa las imágenes y une con una línea los que cumplan con las características. (5 puntos)



Se alimenta

Se desplaza

Crece




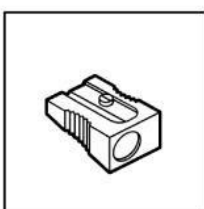



Ítem 5: En las siguientes preguntas pinta SI o NO según sea correcto. (5 puntos)

¿Las plantas, animales y seres humanos son diferentes a la materia inerte?	SI	NO
Al igual que los seres humanos, las plantas y animales necesitan agua, aire y alimento para vivir.	SI	NO
¿Los objetos que no tienen vida se llaman materia inerte?	SI	NO
¿Los animales pueden vivir sin aire?	SI	NO
¿Las piedras necesitan alimentarse?	SI	NO

Ítem 6: Dibuja el ciclo de vida de un ser humano. (5 puntos)

1	2	3	4	5

Ítem 7: Pinta con color rojo los seres vivos y con color azul los elementos inertes. (10 puntos)



¡Muy Bien!

