



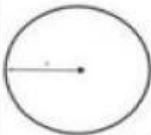

Дата 11.02.2025

Діагностувальна робота №5

«Додавання й віднімання з переходом через розряд. Величини»

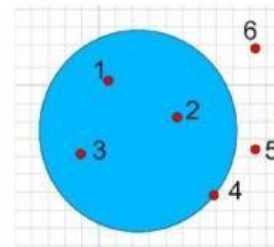
Прізвище та ім'я учня/учениці _____

1. Впиши відповідні твердження.

 Що це? _____	 Що це? _____
 Як називається цей відрізок? _____	 Як називається цей відрізок? _____

2. Познач, які точки належать кругу.

1 2 3 4 5 6



3. Обчисли.

$35 + 8 =$

$55 + 38 =$

$43 + 26 =$

$96 - 7 =$

$88 - 49 =$

$64 - 26 =$

4. Розв'яжи задачу (запиши тільки розв'язання і відповідь).

Маса вовка 30 кг. Маса лисиці 14 кг, а маса зайчика- на 5 кг менша від маси лисички. Яка маса всіх тварин?

Розв'язання

1)	
2)	
Відповідь:	

Оціни себе (обери відповідне речення).

Мені було дуже легко.

Мені була потрібна допомога.

Мені було дуже важко.