

Nama :

Tanggal :

BENDA BANGUN DATAR

Jawablah pertanyaan di bawah ini dengan melingkari pada jawaban yang benar!

Benda di bawah ini yang termasuk bangun datar persegi adalah?

a



b



c



Benda di bawah ini yang termasuk bangun datar segitiga adalah?

a



b



c



Benda di bawah ini yang termasuk bangun datar layang-layang adalah?

a



b



c



Benda di bawah ini yang termasuk bangun datar persegi panjang adalah?

a



b



c



Benda di bawah ini yang termasuk bangun datar lingkaran adalah?

a



b




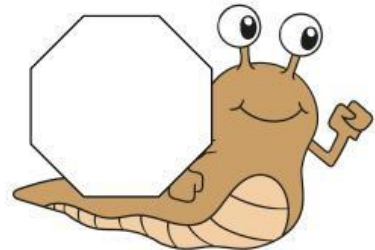



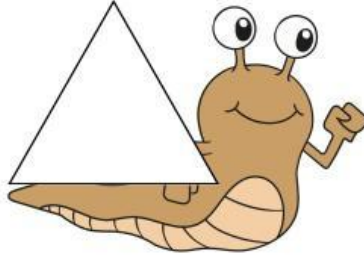



c










Memasangkan Bangun Datar

Gunting dan pasangkan bangun datar dengan rumah siput di bawah ini!

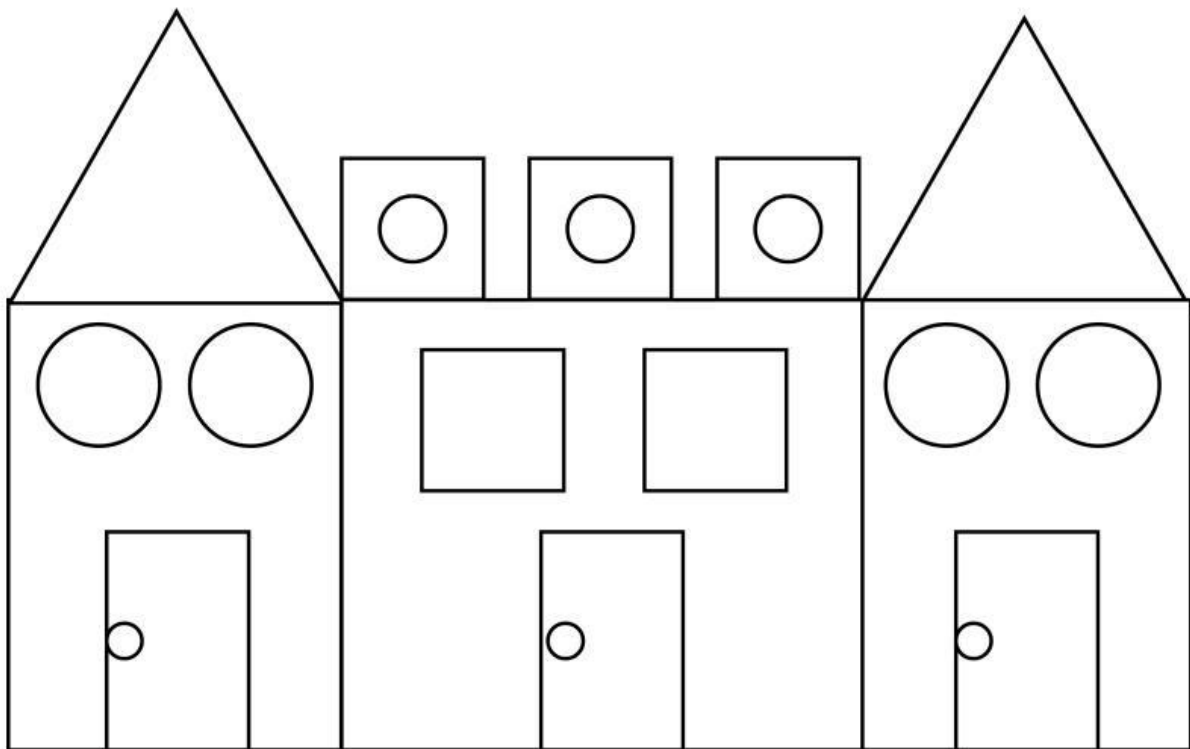


----- gunting di sini -----



Menghitung Jumlah Bangun Datar

Pilih kata tanya yang tepat untuk melengkapi kalimat di bawah ini. Satu kata tanya bisa digunakan beberapa kali.



$$\bigcirc = \underline{\hspace{2cm}} \quad \square = \underline{\hspace{2cm}}$$

$$\text{rectangle} = \underline{\hspace{2cm}} \quad \triangle = \underline{\hspace{2cm}}$$