






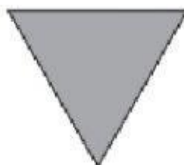



REPASAMOS LAS FIGURAS PLANAS


1. Completa la tabla

Polígonos	N.º de lados	N.º de vértices	N.º de ángulos	Nombre
				Triángulo
				
				
				
				
				

2. Piensa e indica si estos polígonos son regulares o irregulares.



3. Clasifica los siguientes triángulos según sus ángulos.



Acutángulo

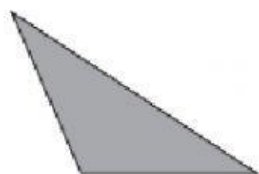
Acutángulo

Rectángulo

Obstusángulo

Acutángulo

4. Clasifica estos triángulos según sus lados.



Escaleno


Isósceles

Equilátero



Escaleno

Isósceles

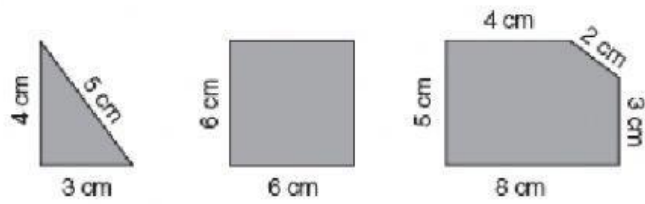
5. Clasifica los siguientes cuadriláteros en trapezoides, trapecios o paralelogramos.



6. Indica el tipo de paralelogramo son las siguientes figuras.



7. Indica el perímetro de las siguientes figuras:



8. ¿Cuál es el área de la siguiente figura?

