

Nama: _____

Tanggal: _____

SOAL PILIHAN GANDA

Pilihlah jawaban yang paling tepat dengan memberi tanda silang pada a, b, c atau d !

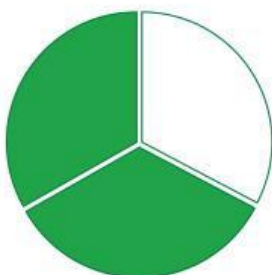
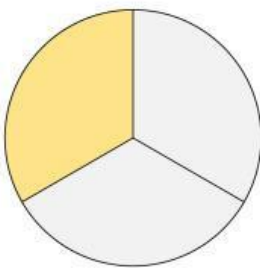
Konstanta dari bentuk aljabar berikut adalah ...

$$4x^2y + 3x^2 - 6y + 2$$

- a. 4
- b. -6
- c. 3
- d. 2

SOAL MENJODOHKAN

Hubungkan dengan garis
untuk gambar dengan
lambang pecahan yang sesuai



$$\frac{2}{3}$$

$$\frac{1}{3}$$

FITUR “TEXT FIELD”

$$7a + 4b + 5a + 3b$$

Hasil Penjumlahan bentuk aljabar di atas adalah _____

FITUR “WORD SEARCH”

Temukan kata yang termasuk dalam nama bangun datar!

A	L	P	S	D	A	T	D	K	R
C	K	E	R	L	I	N	S	K	A
P	T	R	A	P	E	S	I	U	M
U	S	S	S	H	A	L	U	S	K
U	U	E	U	S	B	E	A	I	O
S	E	G	I	E	M	P	A	T	R
B	U	I	U	M	D	T	A	L	O


FITUR DRAG & DROP

PASANGKAN PUZEL DENGAN PASANGANNYA

DRAG : PUZEL DAPAT DI PINDAHKAN KE TEMPAT DROP

DROP : PUZEL YANG MENJADI TEMPAT MEMASANGKAN PUZEL LAIN

DROP



DRAG



JAWABAN LEBIH DARI 1 FITUR "SELECT"

BERIKAN TANDA CHECKLIST PADA KOTAK
YANG MENUNJUKAN BILANGAN GANJL

