



1-. ¿CUÁL DE LOS SIGUIENTES ANIMALES ES UN MAMÍFERO?



a) Tiburón



b) Águila



c) Ballena



d) **Serpiente**

2. Arrastra cada animal a su hábitat correspondiente:



Oso polar



Tiburón



Águila



Rana



Oceano



Bosques y montañas



Regiones polares



Lagos y ríos

3-. COMPLETA LA SIGUIENTE FRASE

"Las plantas producen su propio alimento a través de un proceso llamado _____, que requiere luz solar, agua y dióxido de carbono."




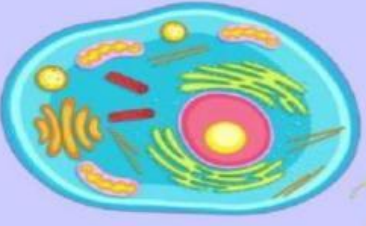

4-. RELACIONA CADA PARTE DE LA PLANTA CON SU FUNCIÓN CORRESPONDIENTE

- | | |
|----------|---|
| 1. Raíz | a) Absorber agua y nutrientes del suelo. |
| 2. Tallo | b) Producir semillas para la reproducción. |
| 3. Hoja | c) Realizar la fotosíntesis. |
| 4. Flor | d) Sostener la planta y transportar nutrientes. |

5-. RELACIONA CADA PARTE DE LA CELULA Y SU FUNCIÓN, DE ACUERDO AL SIGUIENTE VIDEO DE YOUTUBE

-LAS CÉLULAS-

Indica qué tipo de célula es:



Selecciona las partes de la célula:

